

平成19年度  
入学試験問題

社 会

2月1日 午前

受験番号	氏 名

中村中学校

① 次の文は中村中学校の2年生が、2006年7月に社会科見学に行った時の感想文です。読んであとの間に答えて下さい。

私たち2年生は、7月6日、神奈川県に社会科見学に行きました。最初は三浦市にある三崎水産物地方卸売市場を訪れました。ちょうどセリが行われていて、活気にあふれていました。年に約3万トンの①マグロが水揚げされ、それが消費されているという説明に驚きました。この水揚げ量は日本有数だそうです。地図を見ると、世界中からマグロが日本に集まっている様子が分かりました。

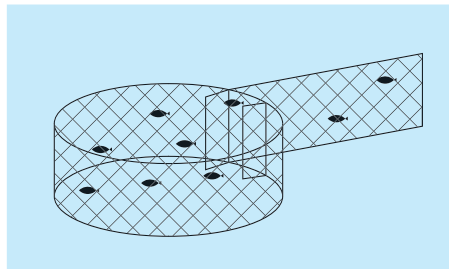
次に横須賀市の火力発電所を訪れました。総出力は253.9万kwで、発電した電力は②横浜市や三浦半島などに供給されているそうです。面積が約83万km<sup>2</sup>の広大な敷地内には、燃料を貯蔵する16基のタンクや、巨大な煙突えんとつなどがありました。環境対策として、③硫黄酸化物を取る装置や、煤塵ばいじんを取る装置などがあり、④温暖化防止に力を入れていることが良く分かりました。

昼食をとった後、最後の見学地である、川崎市の洗剤工場に向かいました。工場は⑤京浜工業地帯にあり、まわりは工場ばかりでした。私たちは説明をうけたあと、塵防止ちりのための帽子をかぶり、工場内に入りました。工場内はほとんど無人で、⑥機械が次々に製品を生産していました。生産だけでなく、できあがった製品を段ボール箱に箱詰めするのも機械でしたし、倉庫にしまうのも機械でした。私は自分の家でよく見かける製品がこのように作られているのかと知り、感動しました。最後にシャンプーのお土産をいただき、うれしくなって友達とはしゃいでしまいました。

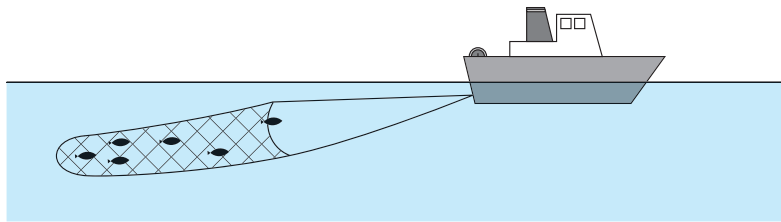
短い時間で3ヶ所の施設を見て回り、ちょっと疲れましたが大変勉強になった1日でした。

問1 下線部①の「マグロ」の漁獲方法を示しているものを次のア～エより1つ選び、記号で答えて下さい。

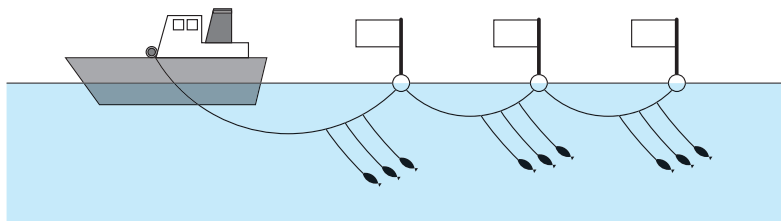
ア.



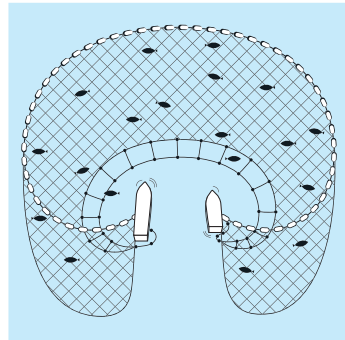
イ.



ウ.

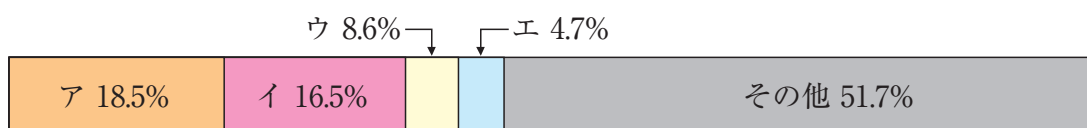


エ.



(図は『図鑑鉄道・船』より)

問2 次の帯グラフは、日本の水産物輸入の割合を金額をもとに表したものです。このうちマグロの輸入を示しているものを、次のア～エより1つ選び、記号で答えて下さい。



問3 現在、マグロ漁をめぐる問題となっていることを説明して下さい。

問4 下線部②の「横浜市」について、あとの(1)～(3)の問に答えて下さい。

(1) 横浜市の首長になるための被選挙権が得られる年齢を、次のア～エより1つ選び、記号で答えて下さい。

- ア. 18歳以上           イ. 20歳以上
- ウ. 25歳以上           エ. 30歳以上

(2) 横浜市の仕事として正しくないものを次のア～エより1つ選び、記号で答えて下さい。

- ア. 公園や道路などの整備を行う。
- イ. 水道やバスなどの経営を行う。
- ウ. ごみ処理など保健衛生の仕事を行う。
- エ. 警察の仕事を行う。

(3) 横浜市の議会が行う仕事として正しいものを次のア～エより1つ選び、記号で答えて下さい。

- ア. 法律の制定や改正を行う。
- イ. 首長を議員の中から指名する。
- ウ. 条例の制定や改正を行う。
- エ. 首長と連帯して責任を負う。

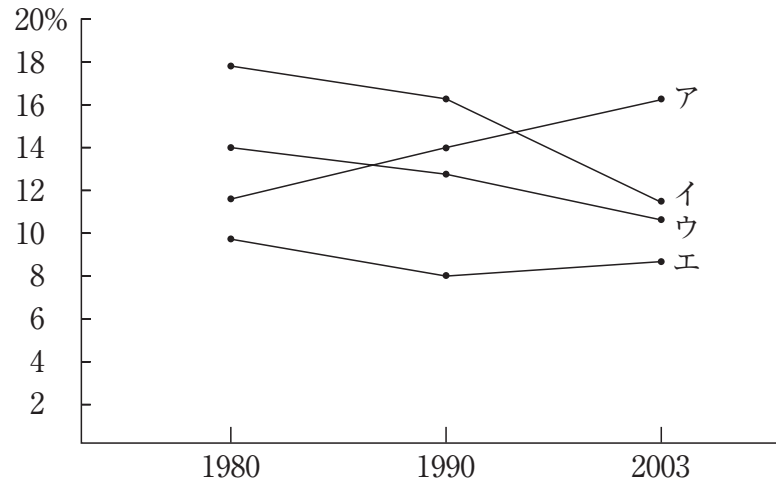
問5 下線部③の「硫黄酸化物」が原因となって発生する地球環境問題が深刻になっている地域として正しくないものを、下の図のア～エより1つ選び、記号で答えて下さい。



問6 下線部④の「温暖化防止」のために結ばれた京都議定書の説明として正しくないものを、次のア～エより1つ選び、記号で答えて下さい。

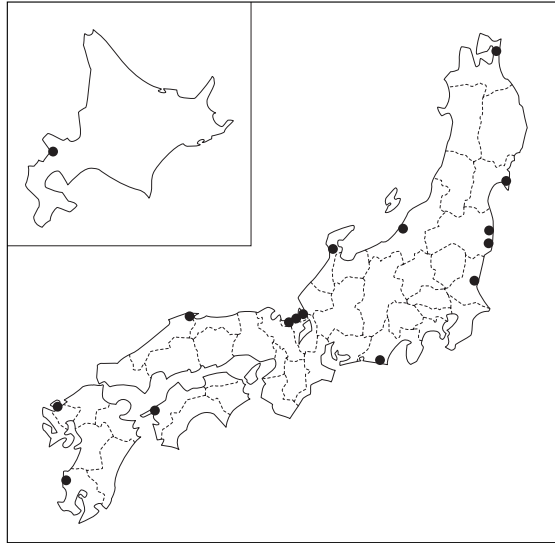
- ア. 日本は基準年の1990年比で、二酸化炭素排出量を6%削減する義務を負っています。
- イ. アメリカ合衆国は2001年に京都議定書からの離脱を表明しました。
- ウ. ロシアが2004年に京都議定書に批准したため、2005年に発効しました。
- エ. 温暖化防止のために国連に加盟しているすべての国が、二酸化炭素排出量を削減する義務を負っています。

問7 日本の工業地帯、工業地域の工業製品出荷額割合のうつりかわりを示した下のア～エのグラフのうち、下線部⑤の「京浜工業地帯」にあたるものを選び、記号で答えて下さい。



問8 下線部⑥のような「機械」のことを何といいますか。解答らんにあわせて答えて下さい。

問9 日本の原子力発電所の位置を示した下の地図から読み取れることを次のア～エより1つ選び、記号で答えて下さい。



- ア. 日本の原子力発電所は、冷却水を得やすい臨海部に建設されています。
- イ. 日本の原子力発電所は、電力需要の多い大都市近郊に建設されています。
- ウ. 日本の原子力発電所は、8つの地方すべてに建設されています。
- エ. 日本の原子力発電所は、広い用地が確保できる大きな平野に建設されています。

問10 2年生が見学に行った施設のうち、第3次産業に属するものを1つ選び、記号で答えて下さい。ただし、あてはまるものがない場合はエを選択して下さい。

- ア. 水産物地方卸売市場
- イ. 火力発電所
- ウ. 洗剤工場
- エ. (選択肢なし)

(統計は『日本国勢図会』2006/07・『県勢』2006より)

② 次の各文章は、ある時代の税を負担した人の声です。よく読んで、あとの間に答えて下さい。なお、A～Eは時代の古い順に並んでいます。

- A 私たちの負担する税は「布」や「労働」です。「布」はお金の代わりに物と物の交換に使われたりしています。「労働」は土木工事などです。また、①兵隊としての仕事もあります。②負担にたえきれず、逃げ出すものも出てきました。
- B これまでの税は1人1人に対してかかる「人頭税」でしたが、「田や畑に対してかかる税」に変わりました。しかし、ある国司が私腹を肥やしていたので、私たちは朝廷に訴えて、③その国司をやめさせました。
- C ④太閤検地以来、私たち農民は領主に⑤年貢を納めています。となりの藩の農民は五公五民で、私たちよりも多く年貢を取り立てられたと聞きました。また、年貢だけではなくいろいろな⑥「役」という負担もあり生活は大変です。
- D 政府は土地所有者に地券を発行し、⑦一定率の地租を税として地主から直接徴収するようになりました。⑧帝国議会では、地租の軽減が話し合われていますが、私たち小作人の負担は、以前とほとんど変わりません。
- E 私たちサラリーマンの中には、⑨税の不公平を感じている人もいます。これから⑩少子化と高齢化が進む中で、⑪直接税だけでなく、間接税の割合を高めていくことも必要でしょう。また、税がどのように使われるか、⑫行政を監視することも忘れていません。

問1 下線部①の仕事として正しいものを次のア～エより1つ選び、記号で答えて下さい。

- ア. 足軽      イ. 屯田兵      ウ. 防人      エ. 関東軍

問2 下線部②に最も関係の深いものを次のア～エより1つ選び、記号で答えて下さい。

- ア. 貧窮問答歌      イ. 平家納経  
ウ. 奥の細道      エ. 南総里見八犬伝

問3 下線部③にあてはまる人物を次のア～エより1つ選び、記号で答えて下さい。

ア. 中臣鎌足      イ. 藤原元命      ウ. 北条時宗      エ. 足利義政

問4 下線部④の「太閤検地」の結果について説明した文章として正しいものを、次のア～エより1つ選び、記号で答えて下さい。

ア. 豊臣秀吉は上皇側の公家や武士の土地約3000か所を没収し、そこに新たに地頭を置きました。

イ. 国人たちは集会を開き、掟おきてを決めて8年間にわたって自治を行いました。

ウ. 荘園制は無くなり、農民は税を納める責任とともに土地に対する権利を認められました。

エ. 新興商人しんこうを城下に集めて、城下町の繁栄はんえいを図りました。

問5 下線部⑤に苦しんだ農民は、負担の軽減などを求めて百姓一揆で領主に抵抗しました。また、飢きんが続くと、都市の貧しい人々も高利貸こうりがしや米屋を集団で襲おそいました。この都市の人々の動きを何といいますか、答えて下さい。


問6 下線部⑥の例として、宿場の運送用人馬じんばが不足している場合、近くの農民に人馬を提供させることがありました。これを何といいますか、漢字で答えて下さい。

問7 下線部⑦について、最初に決められた税率（土地の値段に対する比率）として正しいものを、次のア～エより1つ選び、記号で答えて下さい。

ア. 1%      イ. 3%      ウ. 5%      エ. 7%

問8 下の図は、19世紀末に開かれた下線部⑧の「帝国議会」の様子を描いたものです。これについて説明した文章として正しくないものを、次のア～エより1つ選び、記号で答えて下さい。

＜帝国議会衆議院之図＞（憲政記念館蔵）



- ア. 第1回の議会では、政府を支持しない政党が議席の過半数を占めていました。
- イ. この時代の有権者は高額納税者のみに限られ、全人口の1.1%程度でした。
- ウ. この時代に先がけての十数年間は政党が結成されるなど自由民権運動が激化げきかしました。
- エ. この図の中には少数ですが、女性が含まれていて当時話題となりました。

問9 下線部⑨の対策の1つとして、所得の多い人には高い税率を、少ない人には低い税率をあてはめる制度がとられています。この制度を何といいますか、答えて下さい。

問10 下線部⑩の「少子化」を示す2005年の合計特殊出生率は1.26です（2006年11月、厚生労働省発表）。この状況の理由として正しくないものを、次のア～エより1つ選び、記号で答えて下さい。

- ア. 子どもの教育にお金がかかるから。
- イ. 経済的に余裕が無いから。
- ウ. 仕事をしながら子育てをするのが困難だから。
- エ. 結婚する人々の年齢が下がっているから。

問11 下線部⑪の「直接税」にあてはまらないものを、次のア～エから1つ選び、記号で答えて下さい。

- ア. 酒税      イ. 法人税      ウ. 相続税      エ. 所得税

問12 下線部⑫の例として、行政の監視を市民の代表の手で行う制度が取り入れられました。この制度を何といいいますか、答えて下さい。