

平成19年度
入学試験問題

社 会

2月3日 午後

受験番号	氏 名

中村中学校

① 日本各地に住む小学校6年生が、自分たちが住んでいる都市（都道府県庁所在地）と、その地で伝統的に行われている「祭り」について説明しています。読んであとの間に答えて下さい。

<Aさん>

私が住んでいる都市は、① 古い町並みが残っているし、世界文化遺産に登録されている神社やお寺が多くあって、今でも国内外から多くの観光客が来ているわ。

毎年7月には、日本三大祭の1つと言われている、 あ が行われるの。このお祭りは1000年以上の歴史がある八坂神社のお祭りで、1ヵ月間もイベントが続くのよ。

<Bさん>

私の住む都市は江戸時代には② オランダなどとの③ 貿易の玄関口だったのよ。県全体にはたくさんの④ 島があって、すべての島の海岸線の長さを合計すると、日本で第2位になるそうよ。毎年10月には「長崎くんち」というお祭りがあるの。このお祭りは、長崎市民の^{うじがみ}氏神である^{すわ}諏訪神社のお祭りで、3日間町を^あ挙げて行われるのよ。国から重要無形民俗文化財にも指定されているの。

<Cさん>

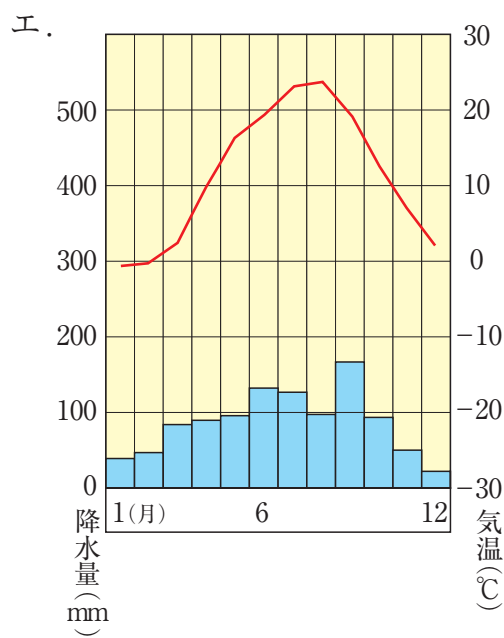
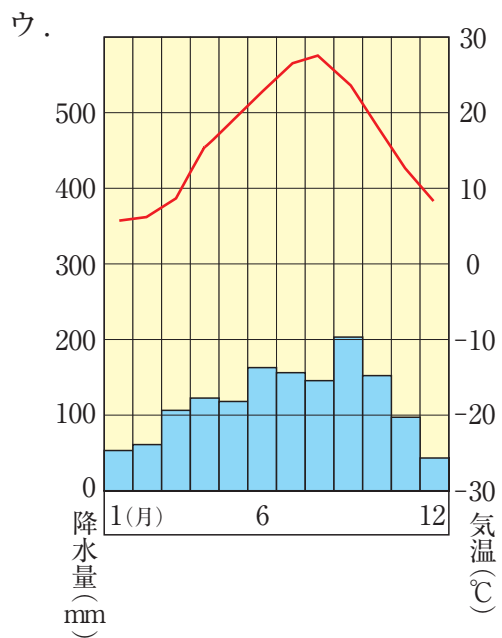
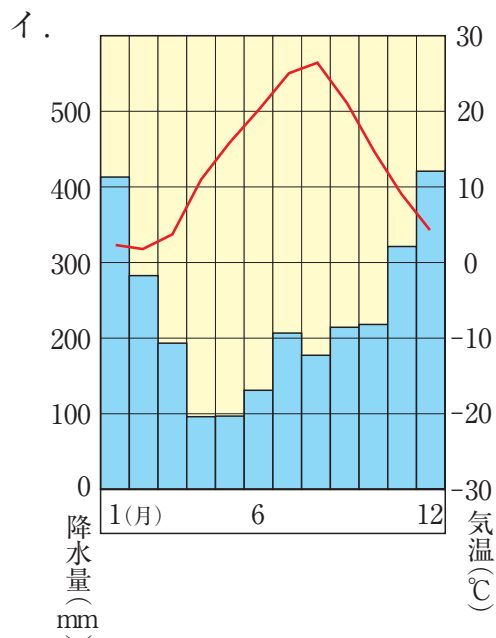
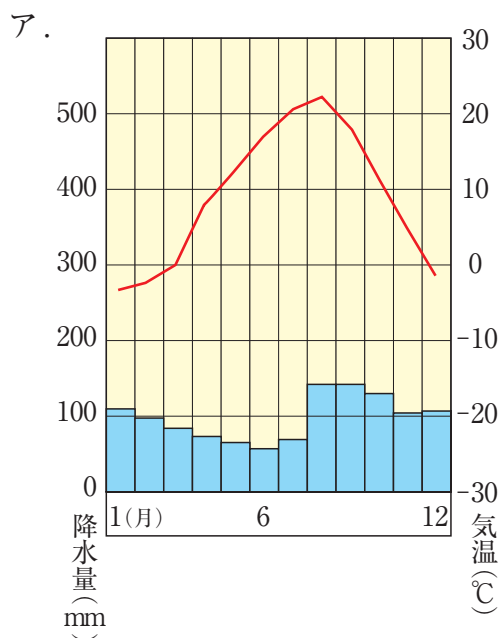
僕の住む都市は、⑤ 日本で一番北にあって、一番面積が大きい都道府県の道庁所在地だよ。明治時代になってから屯田兵たちによって開拓が行われて、都市も計画的に作られたんだ。毎年2月には大通公園で い が行われているよ。 い では国際的なコンクールも行われていて、200万人も観光客が来るんだって。

<Dさん>

僕の住む都市は、東京からは新幹線で約1時間40分で来ることができるよ。この地方では最も人口が多い都市だよ。

毎年8月に「七夕祭り」が行われるんだ。市の中心部の商店街では、豪華な笹飾りがかけられて、僕たちも毎年楽しみにしているんだ。笹飾りは本物の竹と和紙を使って、数ヶ月も前から手作りで準備をするんだよ。商売繁^{はんじょう}盛や家内安全・健康長寿、⑥ 豊漁や豊作などさまざまな願いがこめられているんだ。

問3 次のア～エの雨温図のうち、Cさんが住む都市のものはどれですか。記号で答えて下さい。



(『理科年表』平成17年版より)

問4 下線部①について、昭和41年に発布された古都保存法によって、町並みを保存することが義務づけられています。国会で法律が成立するまでの動きについて正しく説明したものを、次のア～エより1つ選び、記号で答えて下さい。

ア. 法律案は選挙権のある人なら誰でも国会に提出できます。

イ. 法律案は衆議院と参議院で審議されますが、すべての法律案はまず先に衆議院で審議します。

ウ. 各議院の本会議の前には公聴会が開かれ、議案について詳しく審議します。

エ. 衆議院と参議院とで議決が異なった場合には、再び衆議院で議決が行われ、出席議員の3分の2以上の多数の賛成で法律案が可決されます。

問5 下線部②の「オランダ」に本部のある国際連合の機関として正しいものを、次のア～エより1つ選び、記号で答えて下さい。

ア. 国連児童基金

イ. 国際通貨基金

ウ. 国際司法裁判所

エ. 国際労働機関

問6 下線部③の「貿易」に大きく影響するのが為替相場の変動です。では、アメリカとの間で1ドル=150円の相場が、1ドル=120円の相場となる変化を何といいますか、漢字2文字で答えて下さい。

問7 下線部④について、現在、大韓民国との間で領有をめぐって問題となっている「島」を下の地図のア～エより1つ選び、記号で答えて下さい。



問8 下線部⑤について、わが国の漁業では1975年ごろを境にそれまで多くの漁獲高を誇った北洋漁業の漁獲高が急激に減っています。この原因について説明して下さい。

問9 4人が住んでいる都道府県のうち、政令指定都市を持たないものをA～Dより1つ選び、記号で答えて下さい。

問10 空らん ・ にあてはまる祭りの名前を答えて下さい。

問11 下線部⑥について、Dさんの住む県が含まれる地方の農業について述べた文章のうち正しくないものを、次のア～エより1つ選び、記号で答えて下さい。

ア. この地方には、2004年の統計での米の生産量が日本全国で第2位となっている県が含まれています。

イ. この地方では、やませと呼ばれる北東からの冷たく湿った風の影響で、冷害に悩まされてきました。

ウ. この地方では米作りの他にくだものの栽培もさかんで、りんごやさくらんぼ、ももなどが生産されています。

エ. この地方のなだらかな高地では、乳牛や肉牛、ブロイラーなどの畜産も行われています。

- ② 小学校6年生の花子さんは、お父さんと2人でガイド付きの見学ツアー「東京を歩こう会」に参加しました。次の会話文はその時のものです。読んであとの間に答えて下さい。

〈日本橋周辺〉

ガイド：この日本橋は、江戸幕府が開かれた1603年につけられ、その後①五街道の起点となりました。現在でも「東京まであと〇〇km」という②道路標示の基準となっています。現在の橋は③1911年につけられた石造2連アーチ橋で、重要文化財に指定されています。

花子さん：わあ、④日本橋周辺って、江戸の開発の中心となった場所なんだね。

お父さん：そうだね。今、橋自体は⑤首都高速道路に隠れてしまっているけれど、江戸時代から大勢の人々が行きかう有名な橋なんだよ。

〈銀座周辺〉

花子さん：ねえお父さん、さっき通ってきた東京駅の八重洲^{やえす}っていう地名、人の名前が由来になってるんだね。

お父さん：そうそう、⑥徳川家康の外交の手助けをしたオランダ人だね。今日はいろいろ勉強になるなあ。さあ、そろそろ銀座だよ。

ガイド：銀座という地名は、江戸幕府が銀貨^{ちゆうぞう}鑄造所をこの地に置いたこと^{ゆらい}に由来しています。⑦文明開化の頃には、新しい町並みが整備されて、東京の新名所となりました。

〈築地周辺〉

ガイド：築地^{つきじ}といえば、中央卸売市場^{おろしうり}があることで有名です。特に魚市場は、1923年に起こった□⑧□によって、日本橋から現在の場所に移転されました。また、ご存じの方も多いたと思いますが、5年後の2012年には□⑨□に移転することがほぼ決定しています。

花子さん：お父さん、あそこの大きな建物は何？

お父さん：あれは築地本願寺といって、浄土真宗のお寺だよ。

〈霞ヶ関周辺〉

ガイド：このあたり一帯は、外務省・財務省などの省庁が多く集まっていることか

ら、霞ヶ関という地名は日本の中央官界の代名詞として使われています。

花子さん：わあ～！ 本当にビルがいっぱいだね。お父さん、あっちのほうにお堀があるけれど、お堀の向こうは皇居？

お父さん：そうだよ。皇居一帯は緑が多いね。そうだ、今度の休みの日には皇居のまわりを歩いて、半蔵門の方まで行ってみようか。永田町を通るから、
⑩国会議事堂や⑪最高裁判所もあるし、なかなか面白い散歩コースになると思うよ。

花子さん：面白そう！ ジャ、来週行こうよ！

問1 下線部①の「五街道」のうち、江戸から碓氷関や木曾福島関を通して草津までを結ぶ道を何といいますか、漢字で答えて下さい。

問2 下線部②について、右の〈資料A〉は「日本国道路元標」といい、1972年に日本橋の中央に埋められました。この文字は、当時の内閣総理大臣佐藤栄作のものです。では、佐藤栄作と佐藤内閣について述べた文章として正しくないものを、次のア～エより1つ選び、記号で答えて下さい。



〈資料A〉

ア. 「持たず、作らず、持ち込ませず」の非核三原則により、ノーベル平和賞を受賞しました。

イ. 日中共同声明を出し、日本と中国との国交回復に貢献しました。

ウ. アメリカと話し合い、沖縄返還を実現しました。

エ. アメリカと話し合い、小笠原諸島の返還を実現しました。

問3 下線部③の「1911年」に、日本が回復したものは何ですか。次のア～エより1つ選び、記号で答えて下さい。

ア. 関税自主権 イ. 航海自由権 ウ. 直接請求権 エ. 領事裁判権

問4 下線部④の「日本橋周辺」である日本橋本石町^{ほんごくちよう}には、現在銀行券の発行および管理を行っている機関があります。この機関の名称を漢字で答えて下さい。

問5 また、下線部④の「日本橋周辺」である日本橋兜町^{かぶとちよう}には、その由来となった兜岩がある兜神社があります。この兜岩の下には、10世紀前半に下総の猿島^{しもうき さしま}を拠点として関東地方を支配した人物の兜が埋められているという説があります。では、この人物とは誰ですか、姓名を漢字で答えて下さい。

問6 右の〈資料B〉は、江戸時代の下線部④の「日本橋周辺」の様子をよくあらわしています。これは、五街道のうちの1つを画題として、その風景を描いた作品の一部です。この絵の作者は誰ですか。次のア～エより1つ選び、記号で答えて下さい。



〈資料B〉

ア. 十返舎一九^{じっぺんしゃいっく}

イ. 歌川広重^{うたがわひろしげ}

ウ. 葛飾北斎^{かつしかほくさい}

エ. 東洲斎写楽^{とうしゅうさいしゃらく}

問7 下線部⑤の「首都高速道路」は1964年に開通しましたが、この開通と最も関連のある出来事を次のア～エより1つ選び、記号で答えて下さい。

ア. 札幌オリンピック

イ. 大阪万国博覧会

ウ. 東京オリンピック

エ. つくば国際科学技術博覧会

問8 下線部⑥の「徳川家康の外交の手助けをしたオランダ人」とは誰ですか。正しいものを次のア～エより1つ選び、記号で答えて下さい。

ア. フランシスコ・ザビエル

イ. ルイス・フロイス

ウ. アダム・ラックスマン

エ. ヤン・ヨーステン

問9 下線部⑦の「文明開化の頃」の出来事として正しいものを、次のア～エより1つ選び、記号で答えて下さい。

- ア. 多くの芝居小屋が立てられ、人々は娯楽として歌舞伎や人形浄瑠璃を楽しみました。
- イ. 雑誌「青鞥」をつくった平塚雷鳥らによって、婦人の地位向上運動が盛んになりました。
- ウ. フランス留学の経験がある中江兆民がルソーの『社会契約論』の一部を翻訳しました。
- エ. オランダ語を通じて西洋の学問研究が盛んになり、シーボルトの鳴滝塾などが人気を博しました。

問10 空らん ⑧ ・ ⑨ にあてはまる語句の組み合わせとして正しいものを、次のア～エより1つ選び、記号で答えて下さい。

- ア. ⑧ - 東京大空襲 ⑨ - 豊洲 イ. ⑧ - 東京大空襲 ⑨ - 汐留
- ウ. ⑧ - 関東大震災 ⑨ - 汐留 エ. ⑧ - 関東大震災 ⑨ - 豊洲

問11 下線部⑩の仕組みで、衆議院の優越として正しくないものを次のア～エより1つ選び、記号で答えて下さい。

- ア. 憲法改正の発議 イ. 内閣総理大臣の指名
- ウ. 予算の議決 エ. 条約の承認

問12 下線部⑪の裁判官が、任命後初めて行われる衆議院議員総選挙の時に受けなければならないものは何ですか、答えて下さい。