

平成19年度  
入学試験問題

社 会

特待生  
前期

受験番号	氏 名

中村中学校

① 次の日記に関する文章を読んで、あとの問に答えて下さい。

2006年7月に中村中学校／高等学校のホームページがリニューアルされました。これに伴って、「中村日記」といういわゆるブログが開設され、中村での毎日の様子が書かれています。皆さんはもうご覧になりましたか？

日記の歴史は古く、平安時代の935年に①紀貫之が著した『土佐日記』が最初といわれています。紀貫之が国司の任を終え、京に帰るまでの旅日記で、当時の女性が使用したひらがなを用いて記しています。この後、藤原道綱の母が夫兼家との結婚生活を日記形式で振り返った『蜻蛉日記』や、菅原孝標の女が13歳の時に父の任国上総から上京した旅の記録と、その後京都での約40年間の生活を回想した『更級日記』も著されました。また、一条天皇の中宮彰子に仕えた和泉式部や同じく一条天皇の中宮定子に仕え、古代文学の最高峰といわれる『②』を著した紫式部なども日記を残しています。③撰関政治の栄華を極めた④藤原道長の『御堂関白記』、その道長の和歌を載せた藤原実資の『小右記』などこの時代には貴重な日記文学が多く残っており、歴史書との比較により歴史研究の材料となっているものが多いです。

ここにあげた日記は平安時代のほんの一部のものではありますが、皆さんもその時感じたことなどをつづってみてはいかがでしょうか。自分の考えたこと、感じたことを、あとで読み返してみると面白いものです。

問1 下線部①の「紀貫之」が中心となって、天皇の命令でつくられた和歌集を何と  
いいますか、漢字で答えて下さい。

問2 空らん②にあてはまる著書名を漢字で答えて下さい。

問3 下線部③の「摂関政治」について説明した文章として正しいものを、次のア～エより1つ選び、記号で答えて下さい。

- ア. 摂関政治の「摂関」とは摂政と関白のことで、摂政は天皇が成人してからも実権をにぎった役職で、関白は天皇が幼いときに補佐した役職です。
- イ. 摂関政治は壬申の乱で蘇我氏を滅ぼした中臣鎌足の子孫が実権をにぎって行った政治です。
- ウ. 藤原氏は自分の娘を天皇家にとつがせて天皇と親戚となることで、摂関の地位を不動のものとししました。
- エ. 平清盛は武士として初めて摂政となり、摂関政治を引き続き行いました。

問4 下線部④の「藤原道長」が活躍した平安時代中期につくられた建造物として正しいものを、次のア～エより1つ選び、記号で答えて下さい。

ア.



イ.



ウ.



エ.



問5 日記といえば、世界的に有名なアンネ・フランクの書いた『アンネの日記』があります。では、この日記が書かれた頃の日本の様子を説明した文章として正しいものを、次のア～エより1つ選び、記号で答えて下さい。

ア. 日本はアメリカと日米安全保障条約を結び、アメリカ軍の日本駐留<sup>ちゅうりゅう</sup>を認めました。

イ. 五ヶ条のご誓文が出され、新政府の新しい政治方針が示されました。

ウ. シベリア出兵をあてこんでの米の買いしめ、売りおしみが起こり、米騒動に発展しました。

エ. 快進撃を続けた日本は、ミッドウェー海戦で敗れたのをきっかけに、しだいに敗色が濃くなっていきました。

問6 次の資料は1876年に東大医学部のお雇<sup>やと</sup>い外国人として来日したドイツ人医師ベルツの書いた『ベルツの日記』（菅沼竜太郎訳、岩波文庫）の一部です。ベルツは日本の政治や社会等をよく観察し、歴史的な資料としてとても貴重です。あとの(1)～(4)の間に答えて下さい。

[1877年5月14日] …九州の革命はいまだに鎮圧されない。しかし政府は、最大の馬力をかけてやっている。戦いはせいそう<sup>(注1)</sup>を極めている。何しろ⑤反軍<sup>かかん</sup>が果敢に戦って、降伏しないからだ。…

[1889年2月9日] 東京全市は、11日の⑥憲法<sup>けんぽう</sup>発布をひかえてその準備のため、言語に絶した騒ぎを演じている。(中略)だが、滑稽なことには、誰も憲法の内容をご存じないのだ。

[1889年10月18日] …大隈は、この国多年の宿願<sup>しゅくがん</sup>であった⑦条約改正をなしとげようと思った。事実かれは、その目的達成の寸前にまでこぎつけ、(中略)新条約は、もはや締結されたも同然で、ただ批准<sup>ひじゅん</sup>を待つのみという状態にあった。…

[1903年12月21日] 政治的に一向からっとしない空模様である。戦争はますます<sup>(注2)</sup>ふかひ<sup>ふかひ</sup>不可避だ。⑧は日本をなめてかかっている。…

(注1) せいそう…すさまじくいたましいこと。

(注2) まずまず…どうやら

(1) 下線部⑤の「反軍が果敢に戦って、降伏しない」とはどのようなことですか。それを説明した文章として正しいものを、次のア～エより1つ選び、記号で答えて下さい。

- ア. 政府の出した地租改正に反対した農民たちが一揆を起こし、なかなか降伏しないている。
- イ. 西郷隆盛が率いる不平士族が反乱を起こし、なかなか降伏しないている。
- ウ. 農民たちが小作料の引き下げを要求した小作争議<sup>こさくそうぎ</sup>を起こし、なかなか降伏しないている。
- エ. 榎本武揚が政府に抵抗して五稜郭<sup>ごりょうかく</sup>に立てこもり、なかなか降伏しないている。

(2) 下線部⑥の「憲法」とは「大日本帝国憲法」のことです。「大日本帝国憲法」と現在の「日本国憲法」ではさまざまな部分において違いがあります。下の表はその違いを表にしたものです。あとのa～dの間に答えて下さい。

名 称	大日本帝国憲法	日本国憲法
公 布	1889年2月11日	1946年11月3日
公布時の首相	⑨	⑩
形 式	欽定憲法	民定憲法
主権の存在	⑪天皇	国民
天皇の位置づけ	君主であり元首	日本国及び日本国民統合の象徴
国民の義務	納税・兵役	納税・勤労・教育
基本的人権	法律の範囲内で認められる	⑫侵すことのできない永久の権利
国 会	天皇の協賛機関	立法機関
内 閣	天皇に対して責任を負う	国会に対して連帯責任を負う
改正する場合	天皇が発議し国会で議決する	⑬

a) 空らん  ⑨  ・  ⑩ に入る首相の名前の組み合わせとして正しいものを、次のア～カより 1 つ選び、記号で答えて下さい。

- ア. ⑨ - 伊藤博文      ⑩ - 吉田茂
- イ. ⑨ - 黒田清隆      ⑩ - 岸信介
- ウ. ⑨ - 山県有朋      ⑩ - 池田勇人
- エ. ⑨ - 伊藤博文      ⑩ - 池田勇人
- オ. ⑨ - 黒田清隆      ⑩ - 吉田茂
- カ. ⑨ - 山県有朋      ⑩ - 岸信介

b) 下線部⑪について、大日本帝国憲法では、天皇に主権がありましたが、天皇の持っていた権限として正しくないものを、次のア～エより 1 つ選び、記号で答えて下さい。

- ア. 参議院の解散権      イ. 軍隊の統帥権<sup>とうすい</sup>
- ウ. 国务大臣の任命権      エ. 国の統治権

c) 下線部⑫の「侵すことのできない永久の権利」である国民の基本的人権がおかされた場合、憲法では救済を求める権利を認めています。その権利を何といいますか、漢字で答えて下さい。

d) 空らん  に入る文章として正しいものを、次のア～エより 1 つ選び、記号で答えて下さい。

ア. 衆議院と参議院のそれぞれで、総議員の過半数以上の賛成で改正案を国会が発議し、国民投票で3分の2の賛成を得て国民に承認されます。それを天皇が国民の名で公布します。

イ. 衆議院と参議院のそれぞれで、総議員の3分の2以上の賛成で改正案を国会が発議し、国民投票で過半数の賛成を得て国民に承認されます。それを天皇が国民の名で公布します。

ウ. 衆議院と参議院のそれぞれで、総議員の3分の2以上の賛成で改正案を天皇が発議し、国民投票で過半数の賛成を得て国民に承認されます。それを内閣が国民の名で公布します。

エ. 衆議院と参議院のそれぞれで、総議員の過半数以上の賛成で改正案を天皇が発議し、国民投票で3分の2の賛成を得て国民に承認されます。それを内閣が国民の名で公布します。

(3) 下線部⑦の「条約改正をなしとげよう」としたとは、日本が不平等な内容を2つ含んだ条約を以前締結したためです。では、不平等な内容とはどのようなものですか、詳しく説明して下さい。

(4) 空らん  に入る国名を答えて下さい。なお、日本はこの翌年にこの国と戦争を起こしています。

(問題は次のページに続きます)

② 東京や江東区についての地図や表、写真を見て、あとの問に答えて下さい。

問1 地図1は昭和30年頃、地図2は平成17年頃の中村中学校のまわりの様子を示したものです。地図1から地図2の間の変化として読み取れないものを次のア～エより1つ選び、記号で答えて下さい。なお地図1・地図2とも等高線は20mおきに描かれています。



<地図1>



<地図2>

- ア. 埋め立てが進み、海の占める割合が減少しました。
- イ. 市街地が東側に広がりました。
- ウ. 路面電車が廃止されました。
- エ. 洪水を防ぐために隅田川に放水路が建設されました。

問2 地図2のA「荒川」の説明として正しいものを次のア～エより1つ選び、記号で答えて下さい。

- ア. この河川は越後山脈を水源としていて、渡良瀬川や鬼怒川などの支流があります。下流は低平で、水郷と呼ばれる地域もあります。
- イ. この河川は秩父山地を水源としていて、青梅市付近では広い扇状地を形成しています。東京都の南部を流れ海に注ぎます。河口付近には空港があります。
- ウ. この河川は武蔵野市の井の頭池を水源としています。周辺部の都市化が進み、大雨による氾濫が度々報道されています。江戸時代は上水として利用されていました。
- エ. この河川は秩父山地を水源としていて、入間川などの支流があります。現在の下流部は、もともとは昭和5年に完成した放水路でした。

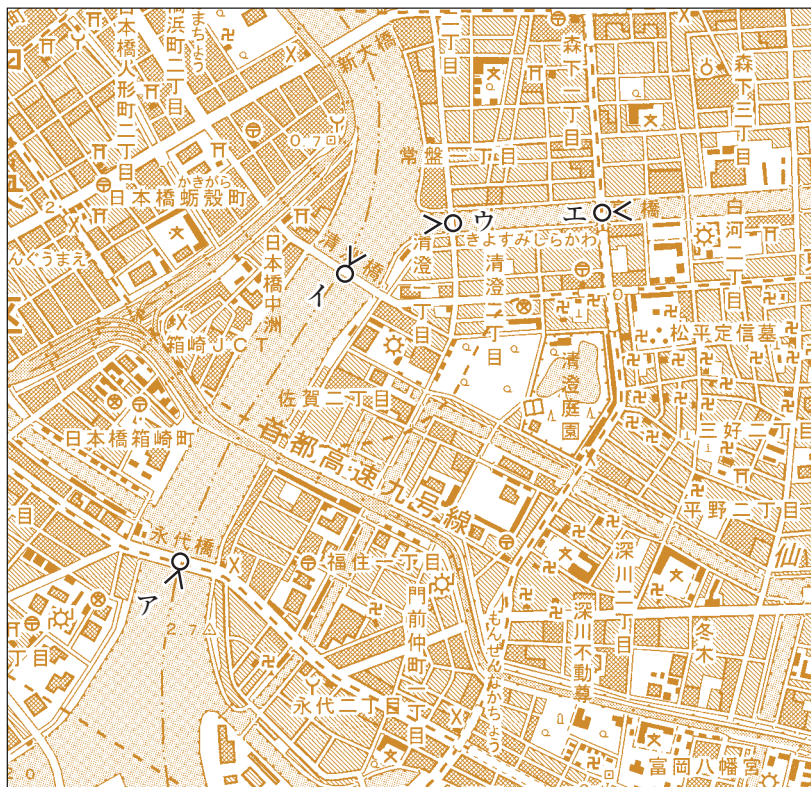
問3 地図2では中村中学校から両国駅まで3.5cmあります。実際の距離をメートルで求めて下さい。

問4 地図2のB「東京港」の輸出入品目を示した組み合わせとして正しいものを、次のア～エより1つ選び、記号で答えて下さい。

	ア		イ		ウ		エ	
	輸出	輸入	輸出	輸入	輸出	輸入	輸出	輸入
1位	織物類 5.2%	衣類 9.8%	自動車 18.3%	石油 8.4%	自動車部品 6.2%	魚介類 8.5%	集積回路 12.8%	集積回路 13.0%
2位	プラスチック 4.2%	たばこ 4.9%	自動車部品 7.0%	衣類 5.9%	プラスチック 4.8%	コンピュータ 7.4%	精密機械 9.9%	コンピュータ 10.0%
3位	建設鉱山 用機械 3.4%	有機化合物 3.5%	内燃機関 4.2%	アルミニウム 5.9%	精密機械 4.7%	肉類 6.9%	映像記録・ 再生機器 6.5%	精密機械 9.4%

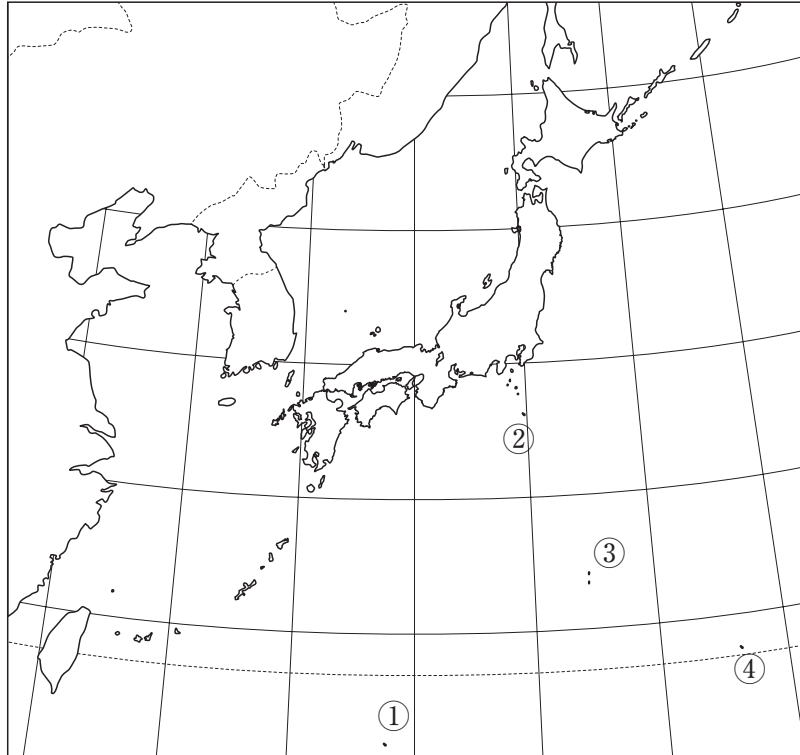
問5 地図2のCは火力発電所です。現在、火力発電所が問題となっている点を説明して下さい。

問6 次の写真は地図3のア～エのいずれかで撮影したものです。写真を撮影した位置として正しいものを1つ選び、記号で答えて下さい。なお○は撮影した人、<は撮影した方向を示しています。



<地図3>

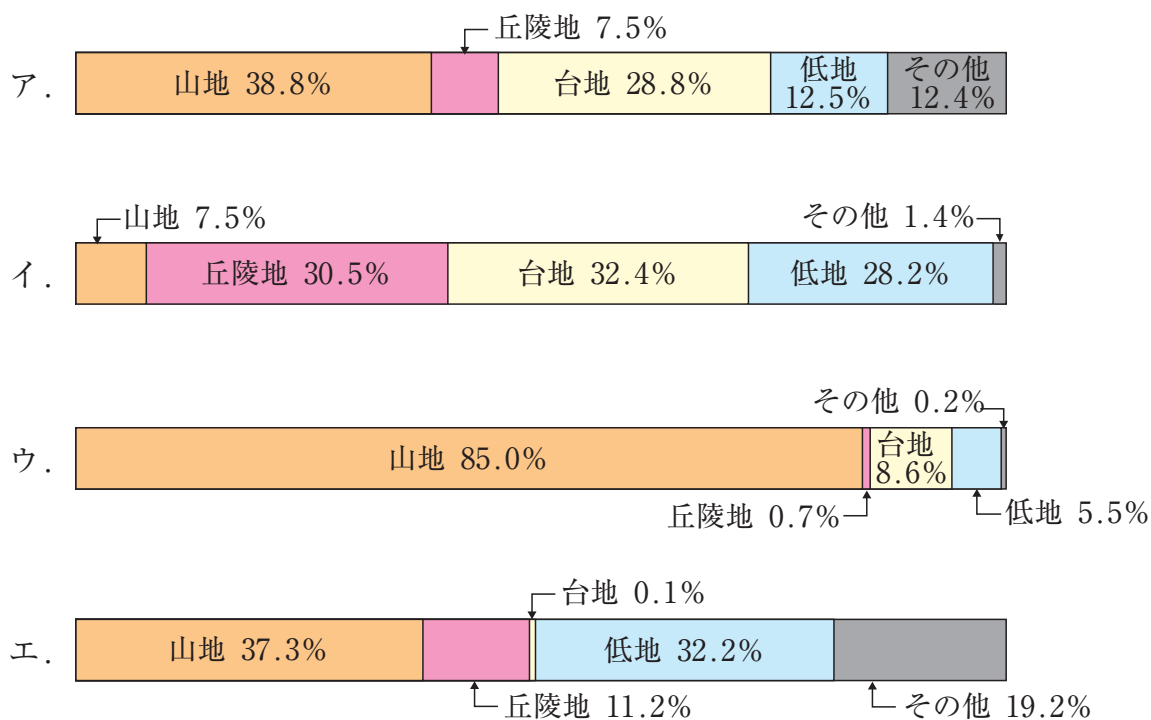
問7 次のア～エの文章は地図4の①～④のいずれかの島を説明したものです。どれにもあてはまらないものを1つ選び、記号で答えて下さい。



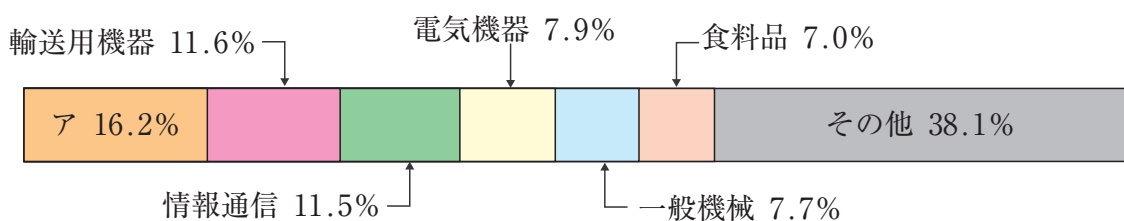
<地図4>

- ア. 晴れた日にはこの島から台湾が見えることがあります。島の畑ではサトウキビ栽培が行われています。
- イ. この島の周囲の広大な漁業専管水域せんかんを守るため、大規模な護岸工事ごがんが行われました。
- ウ. 2000年7月から火山活動が活発になり、9月にはこの島の全ての住民が避難しました。
- エ. この島の年平均気温は23.3℃で、雪や霜しもは見られません。固有種こゆうしゆが多く独自の生態系が展開されています。

問8 東京都の地形別面積割合を示しているものを次のア～エより1つ選び、記号で答えて下さい。



問9 次の2003年の東京都製造品出荷額割合を示した図で、アにあてはまるものを答えて下さい。



問10 次のア～エの文章は中村中学校のある江東区を例にして、地方自治について説明しています。正しくないものを1つ選び、記号で答えて下さい。

ア. 江東区長の解職を求める場合、有権者の3分の1以上の署名を集めることが必要です。

イ. 江東区長は区議会から指名されて選出されます。

ウ. 江東区長の仕事を補佐する立場の人として、助役と収入役がおかれています。

エ. 江東区民に利害関係の深い問題について、住民投票を行うことができます。

問11 江東区議会議員選挙の原則として正しくないものを次のア～エより1つ選び、記号で答えて下さい。

ア. 平等      イ. 直接      ウ. 公開      エ. 秘密

問12 地方自治体に対して、国が使いみちを指定して支給する費用のことを何といいますか、漢字5文字で答えて下さい。

(統計は『日本国勢図会』2006/07・『県勢』2006より)