

平成21年度
入学試験問題

社 会

2月5日 午前

受験番号	氏 名

中村中学校

- ① 中村中学校1年生の地理の授業で、東京の一部を見て回る巡検じゅんけんが行われることになり、先生から以下のような実施要項じっしやうこうが配られました。実施要項を見てあとの問に答えなさい。

東京徒歩巡検実施要項	
	平成21年〇月〇日 中村中学校 社会科
実施月日	平成21年〇月〇日 (〇)
集合場所・時間	中村中学校大地の庭 午前8時30分
解散場所・時間	① <u>東京地下鉄永田町駅</u> 午後4時30分頃の予定
費用	380円 (他に帰宅時の交通費がかかります)
服装	制服・靴は歩きやすいもので可・リュック等
持物	② <u>2万5千分の1地形図</u> (学校で用意します)・筆記用具 巡検のしおり・昼食・飲み物・ハンカチ・雨具他
案内者	中村中学校社会科教員
巡検コース (雨天でも実施します)	
<small>きよすみしらかわ</small> 清澄白河駅→(大江戸線)→月島駅→③ <small>おおかわばた</small> 大川端リバーシティ21→ <small>すみよし</small> 住吉神社 <small>つくだ わた あと</small> →佃の渡し跡→石川島④ <u>灯台</u> →下町の町並み→もんじゃストリート→月島駅 →(大江戸線)→勝どき駅→⑤ <u>東京港月島埠頭</u> →⑥ <u>東京中央卸売市場</u> →⑦ <u>ソフトバンク本社</u> →日産⑧ <u>自動車本社</u> →⑨ <u>東銀座交差点</u> →日比谷公園 (昼食) <small>かすみ がせき</small> →桜田門→霞ヶ関官庁街→日本水準原点→⑩ <u>国会議事堂</u> →最高裁判所→永田町駅	

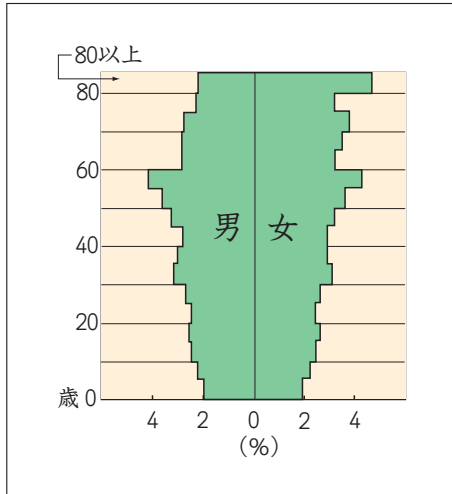
〔問1〕下線部①の「東京」に関する以下の各問に答えなさい。

- (1) 東京都が提携ていけいしている姉妹友好都市のうち、その国の首都でないものを次のア～エより1つ選び、記号で答えなさい。

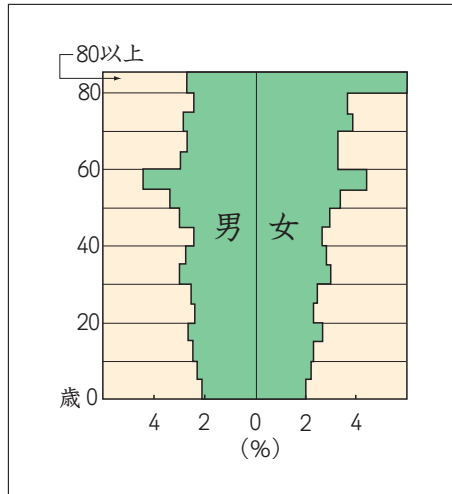
- ア. ペキン市 イ. ニューヨーク市
ウ. ソウル特別市 エ. パリ市

(2) 東京都の人口構成を示している人口ピラミッドを次のア～エより1つ選び、記号で答えなさい。

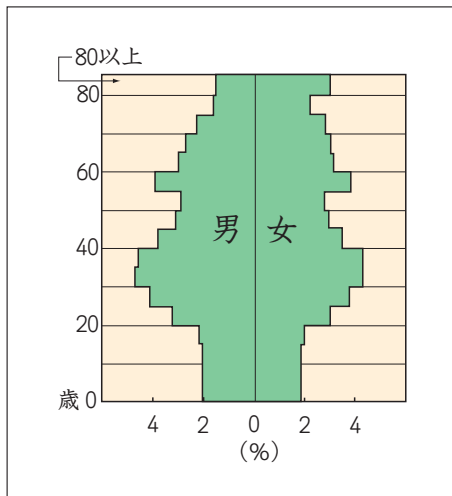
ア.



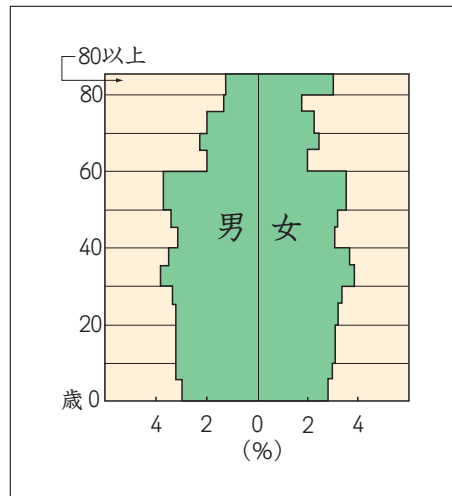
イ.



ウ.



エ.



(2006年、『データでみる県勢 2008』より)

〔問2〕 今回の巡検で配られる下線部②の「2万5千分の1地形図」の原図上で、10cm四方の大きさで示された範囲の実際の面積を、解答らんに合わせて答えなさい。

〔問3〕下線部③の「大川端リバーシティ21」は、ウォーターフロントの開発の先^{さき}駆けといわれている地域です。ウォーターフロントの開発に関する説明として正しいものを次のア～エより1つ選び、記号で答えなさい。

ア. 大きな工場の跡地や埋め立て地などを利用して、マンションなどが建設されている。

イ. 干潟^{ひがた}などの破壊^{はかい}が進んだため、現在新たな埋め立て地の造成^{ぞうせい}は認められていない。

ウ. 若者が家賃^{やちん}の安い郊外^{こうがい}に流出したため、住民のほとんどが高齢者^{こうれいしゃ}となっている。

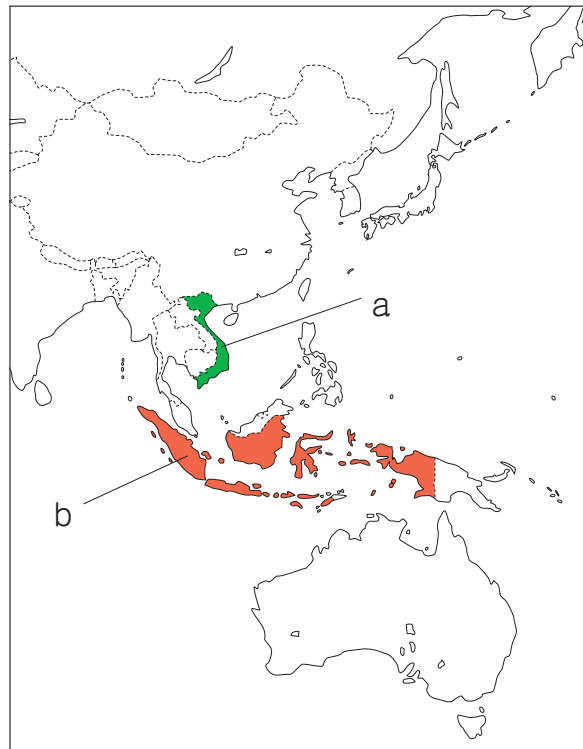
エ. 東京都では開発が盛んだが、千葉県や神奈川県では開発が終了^{しゅうりょう}した。

〔問4〕下線部④の「灯台」の地図記号を次のア～エより1つ選び、記号で答えなさい。



〔問5〕下線部⑤の「東京港」は、貿易のために多くの船舶^{せんぱく}が利用している。それに関連して、関税と輸入量の関係を、「高い」と「価格」の2語を必ず使って説明しなさい。なお、「高い」「価格」の語の下には線を引くこと。

〔問6〕下線部⑥の「東京中央卸売市場」に関連して、次の図は日本のえびの主な輸入先を示したものである。図のa、bの国で日本にえびを輸出するために樹木の伐採が進み、破壊が問題となっている熱帯の森林の名前を、カタカナ6文字で答えなさい。



〔問7〕下線部⑦の「ソフトバンク本社」は、インターネットに関する業務も行っている。インターネットに関する説明として誤っているものを、次のア～エより1つ選び、記号で答えなさい。

ア. インターネットとは、電話回線などを利用して世界中のコンピュータなどと結ばれた、総合的なネットワークのことである。

イ. 携帯電話からインターネット接続サービスを利用する人数は、世界の中で日本がもっとも多い。

ウ. インターネットを利用すると、大量の情報を短い時間に多くの人々に発信することができる。

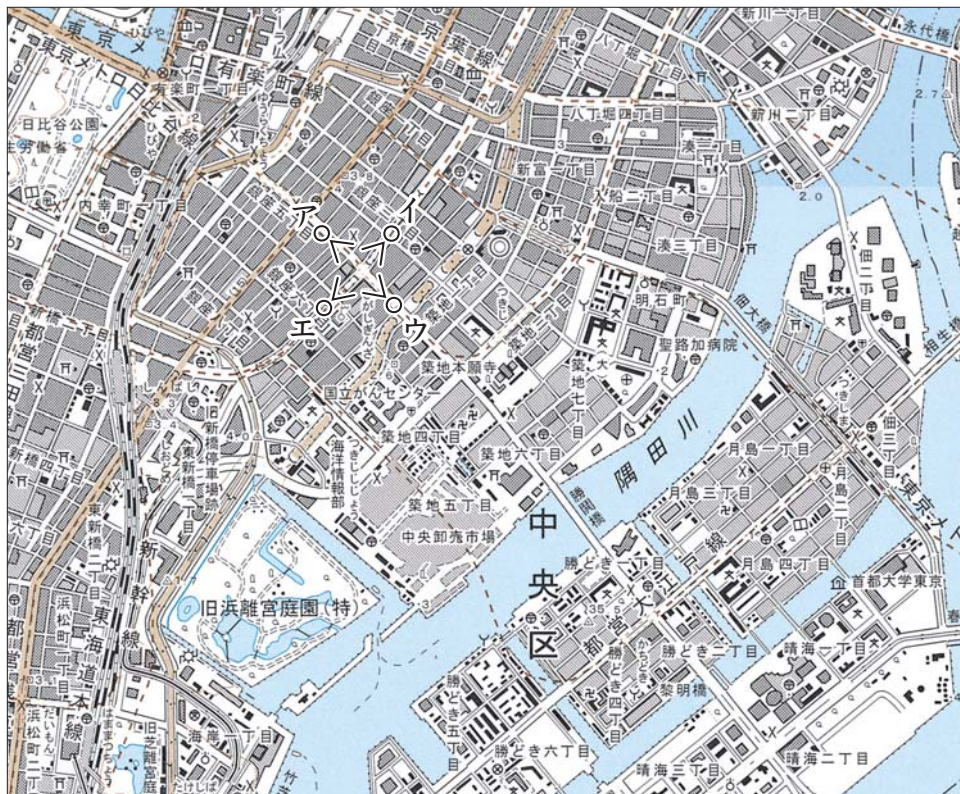
エ. 衆議院議員選挙には、インターネット投票が導入され、投票率の上昇につながった。

〔問8〕下線部⑧の「自動車」組立工場の分布を示した、下の図から読みとれることを次のア～エより1つ選び、記号で答えなさい。



- ア. 輸出がしやすいように沿岸部に工場が建設されている。
- イ. 京葉工業地域けいように自動車工場は建設されていない。
- ウ. 地方別では中部地方に工場がもっとも多く建設されている。
- エ. 原料を得やすい場所えに工場が建設されている。

〔問9〕 次の写真は下線部⑨の「東銀座交差点」を撮ったものである。この写真はどこから撮ったものか、地図中のア～エより1つ選び、記号で答えなさい。なお○は撮った人物、<は矢印が開いている方向に向いて撮ったことを示している。



〔問10〕 下線部⑩の「国会」で審議^{しんぎ}され、公布された日本国憲法に関する以下の各問に答えなさい。

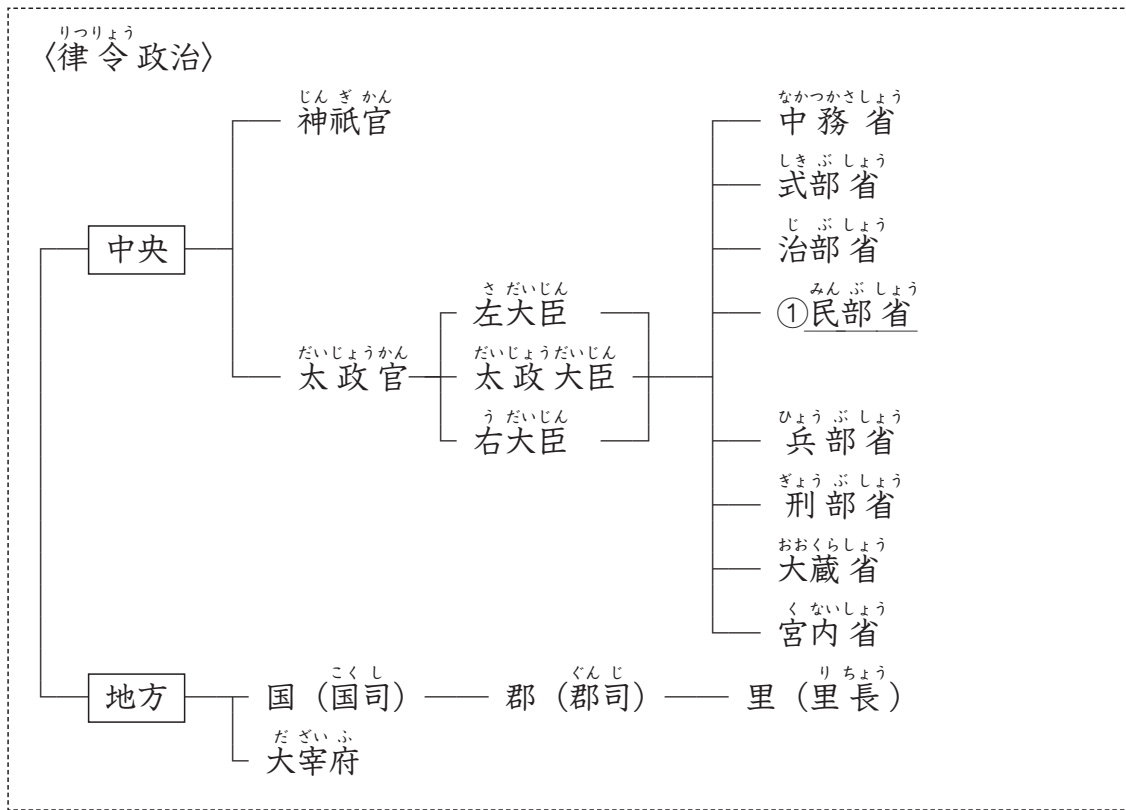
(1) 日本国憲法の条文のうち、社会権について述べたものを次のア～エより1つ選び、記号で答えなさい。

- ア. すべて国民は、健康で文化的な最低限度の生活を営む権利^{ゆう}を有する。
- イ. 公務員を選定し、及びこれを罷免^{ひめん}することは、国民固有^{こゆう}の権利である。
- ウ. 何人も、裁判所において裁判を受ける権利^{うば}を奪はれない。
- エ. 何人も、公共の福祉^{ふくし}に反しない限り、居住^{きょじゅう}、移転及び職業^{せんたく}選択の自由を有する。

(2) 日本国憲法第14条に定められている、法の下^{もと}の平等に反しているとされるものを次のア～エより1つ選び、記号で答えなさい。

- ア. 会社内に社長や部長、係長などの差があること。
- イ. 医師や弁護士など、国家的な試験に合格しなければ従事^{じゅうじ}することのできない職種があること。
- ウ. 国政選挙で一票の価値が地域によって大きく異なること。
- エ. 所得税の場合、所得に応じて税率が異なること。

② 次の各時代における行政の仕組みの図を参考にしながら、あとの問に答えなさい。

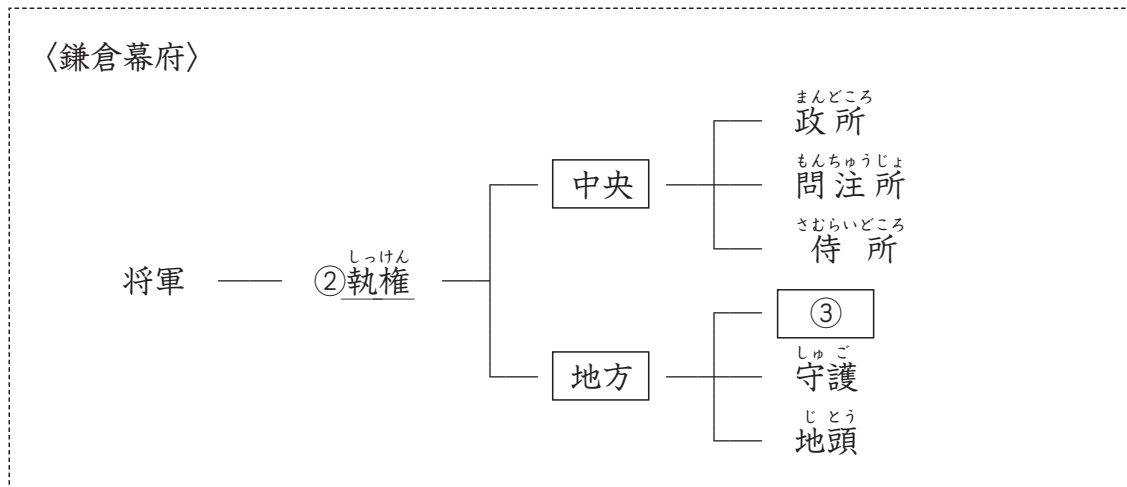


〔問1〕 下線部①の「民部省」とは、^{こせき}戸籍を管理したり、^{ちやうしゆう}税の徴収や国家の財政を担当した行政機関である。以下の各問に答えなさい。

- (1) 地方の特産品を納め、国の財源となった税を何というか、答えなさい。
- (2) 戸籍を作成し、それを国が管理しなければならなかった理由として正しいものを、次のア～エより1つ選び、記号で答えなさい。

- ア. ^{しやうえん}荘園を管理するため。
- イ. ^{かんいじゅうにかい}冠位十二階での地位を決めるため。
- ウ. 『古事記』を作成するため。
- エ. ^{くぶんてん}口分田の支給などを行うため。

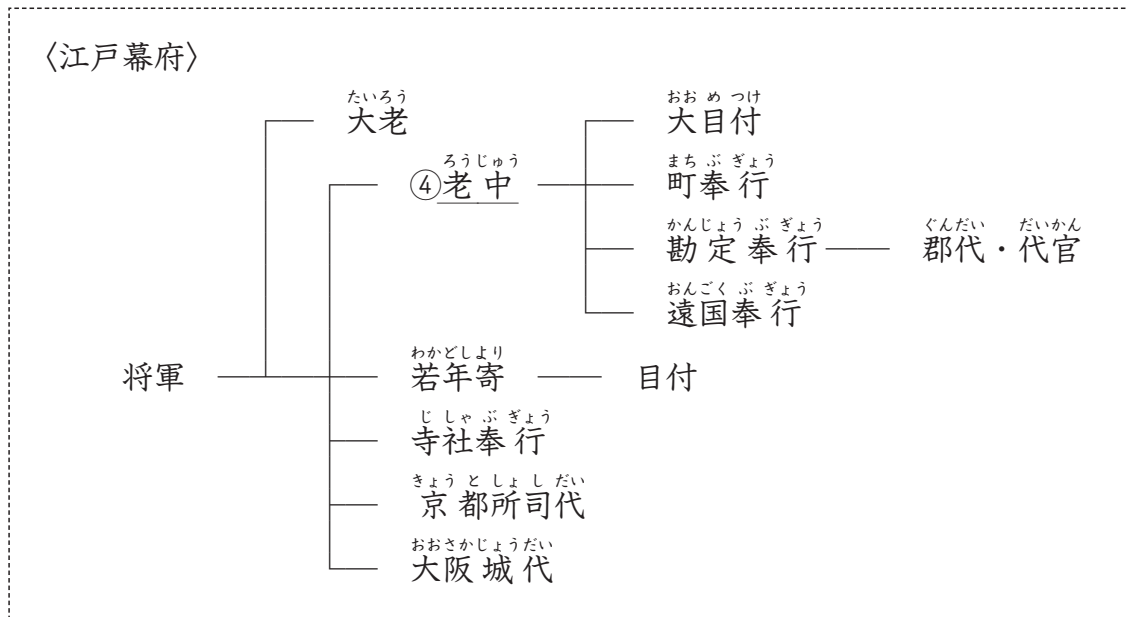
〔問2〕 九州の防備に3年間あたった^{さきもり}防人はどの機関が直接管理したか。上の図から1つ選び、書き出しなさい。



〔問3〕下線部②の「執権」について、人名とその時のできごとの組み合わせとして誤っているものを、次のア～エより1つ選び、記号で答えなさい。

- ア. 北条義時ほうじょうよしとき－承久じょうきゅうの乱がおこる。
- イ. 北条泰時やすとき－御成敗式目ごせいはいしきもくが制定される。
- ウ. 北条時政ときまさ－鎌倉幕府めつぼうが滅亡する。
- エ. 北条時宗ときむね－元寇げんこうがおこる。

〔問4〕空らん は朝廷ちやうていの監視かんしや、西国さいごくの御家人ごけにんの管理を行つた機関である。
あてはまる機関名を答えなさい。

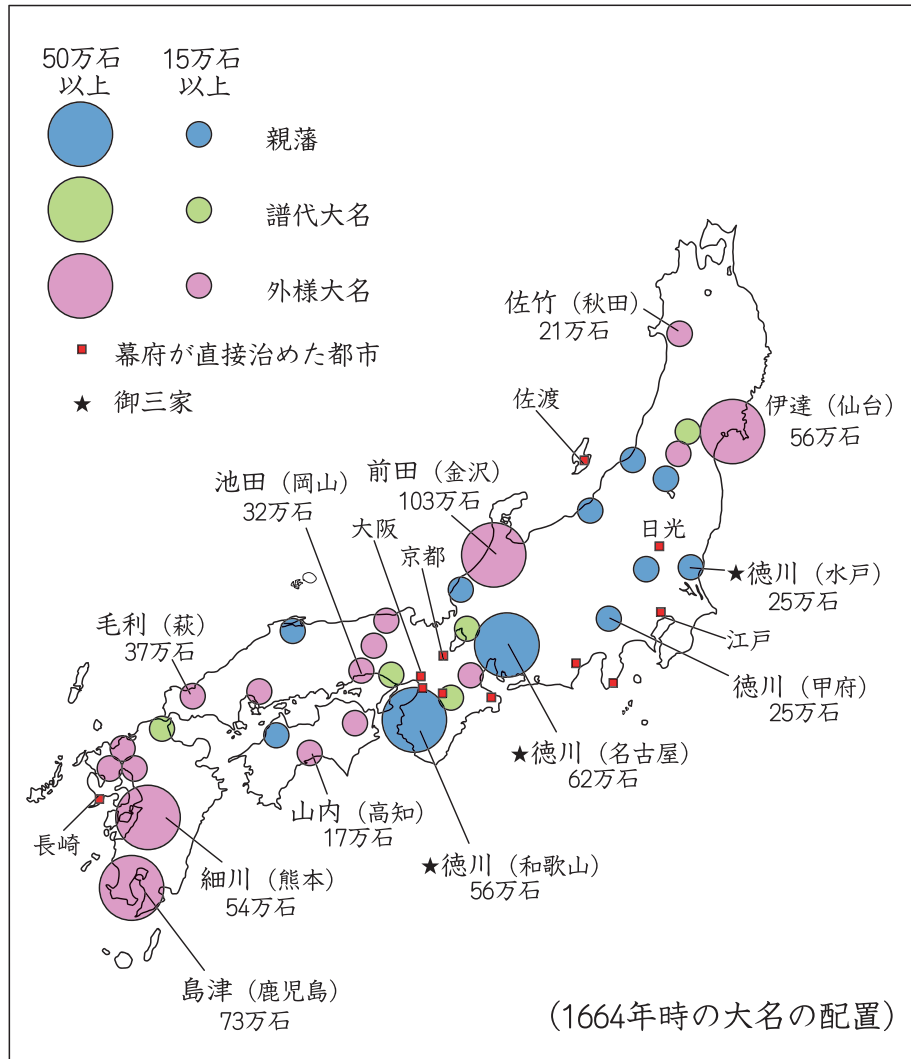


〔問5〕下線部④の「老中」についての説明として正しいものを、次のア～エより1つ選び、記号で答えなさい。

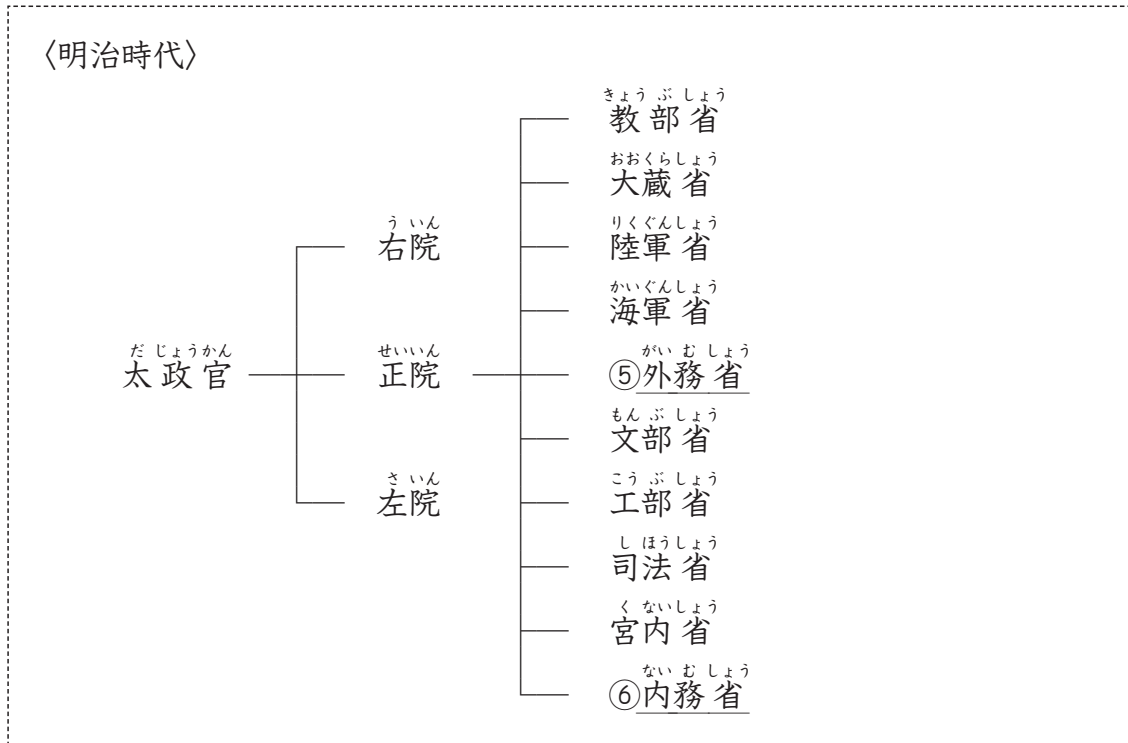
- ア. 大阪夏の陣以降、徳川家康は豊臣秀頼をはじめ豊臣氏を代々老中に就任させた。
- イ. 老中の田沼意次は株仲間を積極的に認めて税をとり、財政の立て直しにつとめた。
- ウ. 寛政の改革を行った水野忠邦、享保の改革を行った松平定信はともに老中である。
- エ. 老中となった井伊直弼は、幕政を批判する人たちを桜田門外の変できびしく処罰した。

〔問6〕江戸時代の多くの機関が1人ではなく、複数で担当した。なぜそのようにしたと思うか、考えられることを説明しなさい。

〔問7〕 次の図を参考に、江戸幕府の政治についての説明として正しいものを、次のア～エより1つ選び、記号で答えなさい。



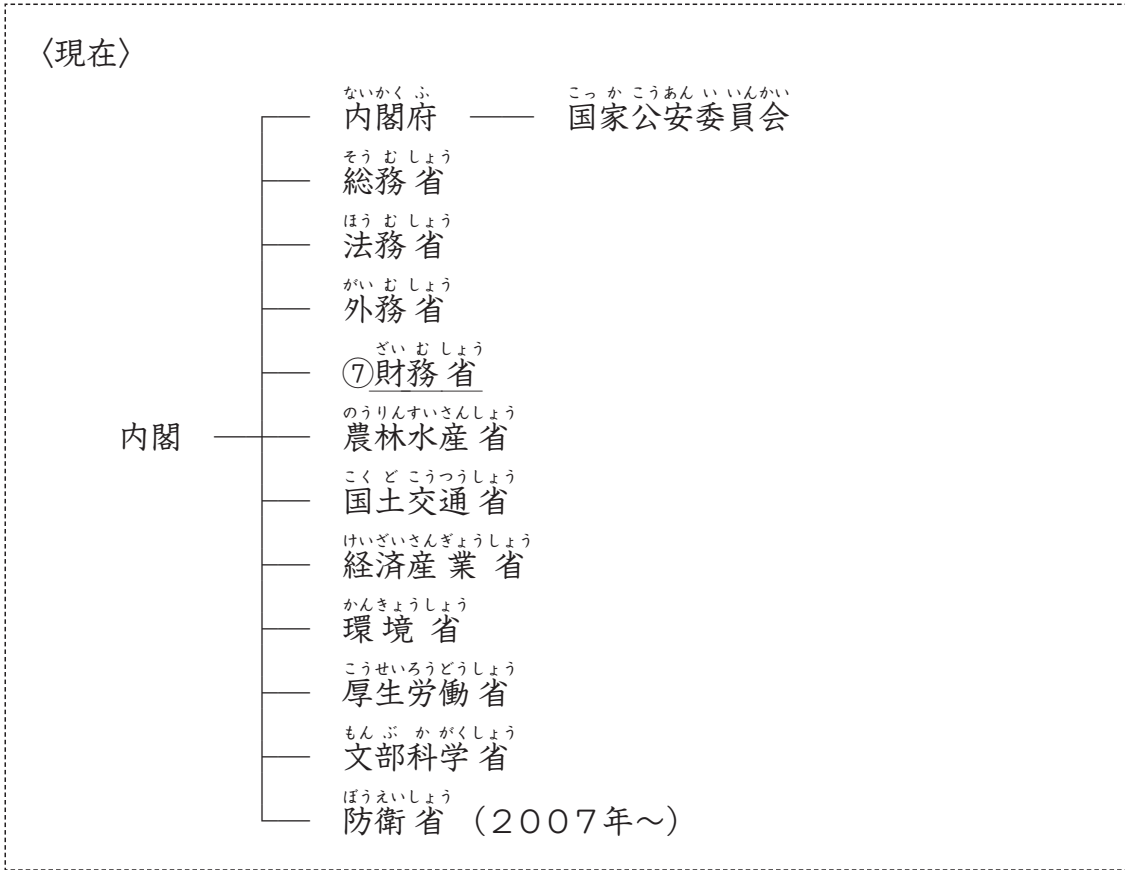
- ア. 江戸の周辺や大阪・京都周辺には親藩や譜代大名が置かれ、中でも譜代大名は幕府の重要な役職についた。
- イ. 金山のあった佐渡、家康をまつた東照宮がある日光など、幕府が直接治めた都市に目付が置かれた。
- ウ. 外様大名の中でも石高の多い金沢の前田氏や鹿児島島の島津氏は、臨時に置かれる大老として政治に参加した。
- エ. 御三家の石高はいずれも50万石以上で、徳川吉宗はこの御三家出身で将軍になった人物である。



〔問8〕下線部⑤の「外務省」が中心となって行った条約改正交渉^{こうしょう}について、次のア～エの内容を年代の古い順に並びかえなさい。

- ア. 岩倉具視^{いわくらともみ}を中心とした使節団をアメリカやヨーロッパに派遣^{はけん}し、条約改正交渉にのぞんだが、失敗に終わった。
- イ. 外務大臣の^{こむらじゅたろう}小村寿太郎がアメリカと交渉して、関税自主権の回復に成功した。
- ウ. 紀伊半島沖でイギリスのノルマントン号^{ちんぼつ}が沈没した事件をきっかけに、条約改正を求める声が大きくなった。
- エ. 外務大臣の^{むつむねみつ}陸奥宗光がイギリスと交渉して、領事裁判権^{りょうじ}の廃止^{はいし}に成功した。

〔問9〕下線部⑥の「内務省」が中心となって行った殖産興業^{しょくさんこうぎょう}の一環^{いっかん}として、1872年に群馬県に設置された官営工場^{かんえい}を何というか、答えなさい。



〔問10〕 下線部⑦の「財務省」の子ども向けホームページを見ると、日本がかかえている借金を1万円札で積み上げていった場合、富士山の1400倍になると書いてある。2007年末現在の借金の額（国債の残高）にもっとも近いものを次のア～エより1つ選び、記号で答えなさい。

- ア. 5兆5000億円
- イ. 55兆円
- ウ. 550兆円
- エ. 5500兆円

〔問11〕 前ページの表は2001年に行政改革の一環として省庁が再編成されたときのものである。では、次のうち行政改革として誤っているものを、次のア～エより1つ選び、記号で答えなさい。

ア. 日本道路公団を東日本高速道路株式会社などに、日本郵政公社を日本郵政株式会社などに分割^{ぶんかつ}民営化した。

イ. 地方交付税交付金の額を増やす代わりに、所得税などの地方税をすべて国税に組み入れた。

ウ. タクシー台数の制限が撤^{てっばい}廃されたり、ガソリンスタンドで米の販売^{はんばい}が行われるようになった。

エ. 地方公共団体の財政的・行政的な効率化^{はか}を図るため、市区町村の整理統^{とう}合^{ごう}がすすめられた。