

平成20年度
入学試験問題

社 会

2月2日 午前

受験番号	氏 名

中村中学校

① 次の文章は日本の特色のある家についてのべたものです。読んであとの問に答えてください。

右は、北海道の家の写真です。北海道は平均気温が低く、家は①厳しい寒さに負けないような造りになっています。②都道府県別面積全国一位の北海道は、一人あたりの③耕地面積も日本最大となっています。

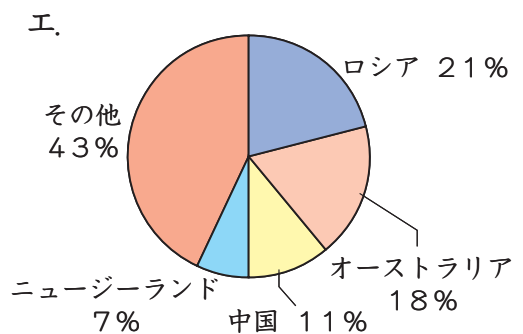
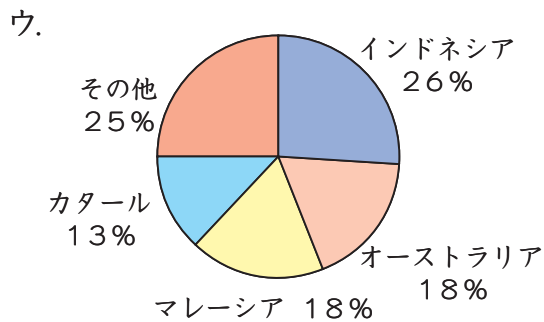
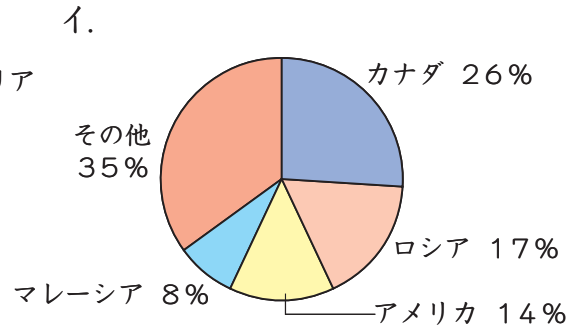
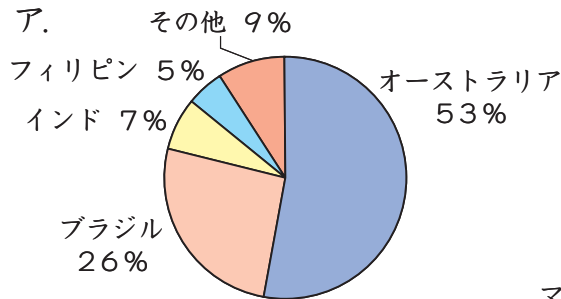


左は、④岐阜県と富山県の県境にあり、⑤世界遺産に登録されている造りの家の写真です。この家は、釘などを使わずに建てられた⑥環境に優しい建物です。この家の屋根の葺き替えには、200人くらいの地元の人が集まって行っています。しかし最近では⑦高齢者の比率が増加したことで、地元の人だけではなく、ボランティアの人達が増えてきています。

右は、沖縄県の家の写真です。沖縄県の家は、⑧台風そなに備えて建てられています。農業では、風害ふうがいや日照りに強いさとうきびやパイナップルが栽培さいばいされていて、どちらも全国一位の生産量となっています。



〔問1〕日本の住居の材料には、昔から木がよく使用されます。日本はその木材の大半を現在は外国にたよっています。では、日本の木材輸入相手先を示したグラフとして正しいものを次のア～エより1つ選び、記号で教えてください。

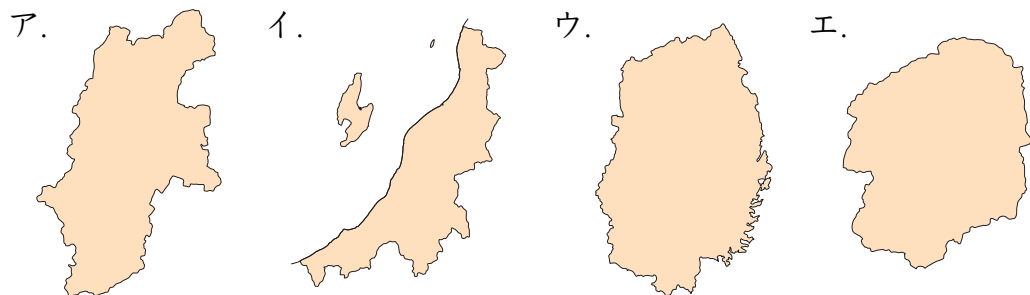


(2006年、『日本国勢図会 2007/08』より)

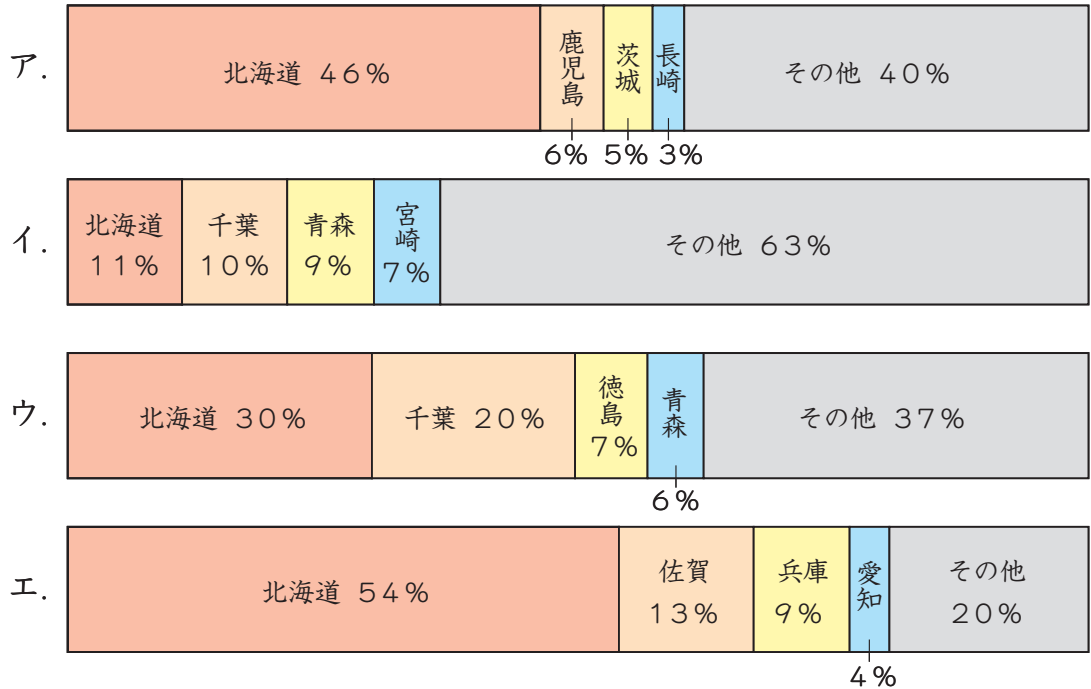
〔問2〕下線部①の「厳しい寒さに負けない」の具体策さくに当てはまるものを次のア～エより1つ選び、記号で教えてください。

- ア. 窓まどを二重や三重にする。 イ. 天井てんじょうを高くする。
 ウ. 給水タンクきゅうすいを屋根の上のにのせる。 エ. 壁かべを一枚の板で作る。

〔問3〕下線部②に関連して、日本で二番目に面積の大きい都道府県を次のア～エより1つ選び、記号で教えてください。(各都道府県は同縮尺しゅくしゃくになっていません。)



〔問4〕下線部③に関連して、北海道は玉ねぎの生産量が全国一位です。玉ねぎの生産量を示したグラフとして正しいものを次のア～エより1つ選び、記号で答えてください。



(2005年、『日本国勢図会 2007/08』より)

〔問5〕下線部④の「岐阜県」の伝統工芸品^{でんとうこうげいひん}として正しいものを次のア～エより1つ選び、記号で答えてください。

- ア. 美濃焼^{みのやき} イ. 唐津焼^{からつ} ウ. 有田焼^{ありた} エ. 萩焼^{はぎ}

〔問6〕下線部⑤について、この建物の造りを答えてください。

〔問7〕下線部⑥に関連して、近年日本だけではなく世界各国でも環境問題が深刻化
しています。環境問題の説明として正しくないものを次のア～エより1つ選び、
記号で答えてください。

- ア. 化石燃料の使用により二酸化炭素が増加して、温室効果をもたらされて
ている。
- イ. 過度の森林伐採や焼き畑により、熱帯林が減少している。
- ウ. 窒素酸化物や硫黄酸化物が雨に溶け込んで、酸性雨が降る。
- エ. メタンガスが原因で、地球の上空をとりまくオゾン層が破壊されている。

〔問8〕下線部⑦に関連して、高齢社会への対策として正しくないものを次のア～エ
より1つ選び、記号で答えてください。

- ア. 会社員の退職の年齢を引きあげる。
- イ. 社会保障制度を整備・充実させる。
- ウ. 都市に病院を集中させる。
- エ. 駅や公共施設にエレベーターを設置する。

〔問9〕岐阜県の南部を中心に、洪水を防ぐために堤防で囲まれた集落があります。
この集落に関連する風景の写真として正しいものを次のア～エより1つ選び、
記号で答えてください。

ア.



イ.



ウ.

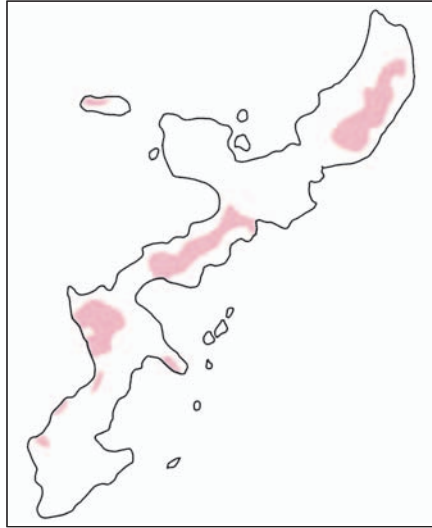


エ.



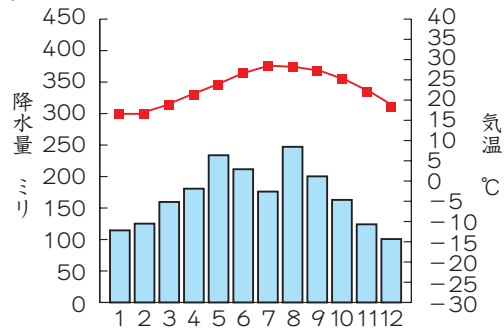
〔問10〕下線部⑧について、台風に備えて具体的にどのような対策を行っていますか。
写真から読みとれる対策を説明してください。

〔問11〕 次の地図は沖縄島と周辺のもので、赤で塗られた範囲は、何を表しているか教えてください。

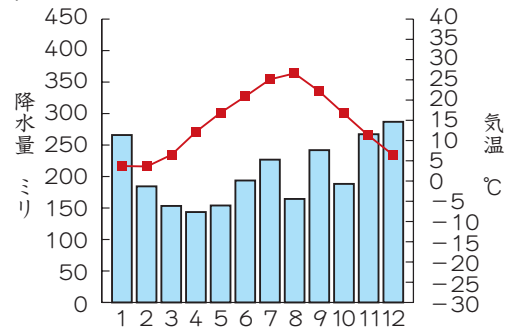


〔問12〕 沖縄県の県庁所在地である那覇市の雨温図として正しいものを、次のア～エより1つ選び、記号で教えてください。

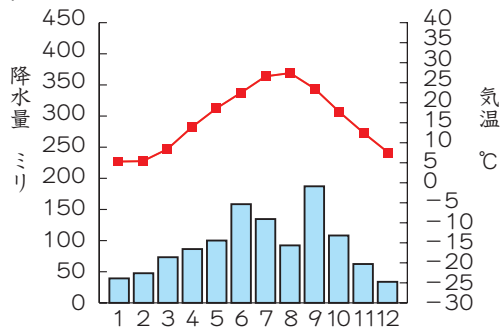
ア.



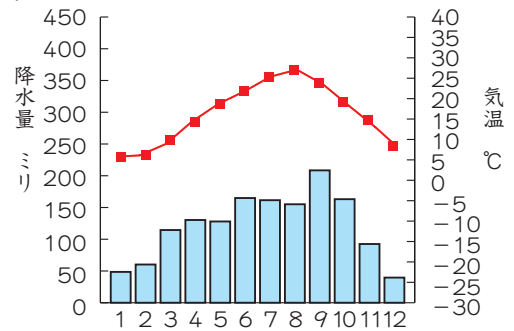
イ.



ウ.



エ.



(2007年、『日本国勢図会 2007/08』より)

② 次のA～Fの文章は、年代の古い順にそれぞれ違う時代の人物が当時の食生活や食べ物について話したものです。読んであとの問に答えてください。

A 私たちは竪穴住居で定住生活をしながら、ドングリなどの木の実やいのしし、サケなど手に入るものを食べています。初めて土器を作り、食べ物の貯蔵や煮炊きに使用しました。食べ物の残りがすなどは□①に捨てています。

B 私たちの時代に、中国から黒砂糖が伝わってきました。これは、中国の僧である□②が来日した時に伝えたといわれています。砂糖は薬として珍重されていて、東大寺の大仏に供えられました。

C 私たち武士は、梅干しをよく食べます。梅干しは保存食としてはもちろん、戦場では力をつけるために戦いの前に食べる人も多いです。また、傷の消毒や④伝染病の予防のために、なくてはならないものとなっています。

D 私たちの時代は⑤南蛮貿易の影響で、かぼちゃやとうもろこしなどの新しい食材が多く伝わってきました。また宣教師によってカステラや金平糖などの甘くて珍しい「南蛮菓子」も伝わり、特に⑥茶の湯ではお茶うけとして人気が出ています。

E 私たちは⑦西洋の影響でカレーライスや牛鍋（すきやき）を食べるようになりました。その他にも、トンカツやオムレツなどのいわゆる「洋食」が成立し、だんだん一般家庭にも広がっています。

F 健康について、私たちの意識が高まり、2001年からは⑧保健機能食品制度がはじまりました。サプリメントや栄養機能食品も手軽なものとなっていますが、その反面、偽健康食品による被害も出ており、行政や各⑨地方公共団体は注意を呼びかけています。

〔問1〕空らん ① にあてはまることばを教えてください。

〔問2〕Aの時代に最も関連のあるものを次のア～エより1つ選び、記号で教えてください。

ア.



イ.



ウ.



エ.



〔問3〕右の写真は、空らん ② にあてはまる人物の像です。来日するまでに5回も日本への渡航に失敗し、その間に盲目となったこの人物とは誰ですか、教えてください。



〔問4〕聖武天皇が下線部③の「東大寺の大仏」を建立した理由として正しいものを次のア～エより1つ選び、記号で教えてください。

ア. 仏教によって、国を安らかに治めようとしたため。

イ. 増加する農民たちの一揆を鎮めようとしたため。

ウ. 商工業の発展を願い、東大寺をその中心にしようとしたため。

エ. 増加する武士たちの反乱を鎮めようとしたため。

〔問5〕下線部④の「伝染病」が流行ったことなどもあり、この時代には武士や庶民たちの間で、わかりやすく信仰しやすい教えの新しい仏教が広まりました。その中で、「踊り念仏」によって布教した人物とその宗派の組み合わせとして正しいものを、次のア～エより1つ選び、記号で答えてください。

- ア. 栄西－臨濟宗 イ. 法然－浄土宗
ウ. 親鸞－浄土真宗 エ. 一遍－時宗

〔問6〕下線部⑤の「南蛮貿易」を行っていた南蛮人として正しいものを次のア～エより1つ選び、記号で答えてください。

- ア. フランス人 イ. オランダ人 ウ. スペイン人 エ. イギリス人

〔問7〕下線部⑥の「茶の湯」の作法を大成した人物は、もともと堺の商人で、織田信長・豊臣秀吉に仕えました。この人物とは誰ですか、答えてください。

〔問8〕下線部⑦の「西洋の影響」を受けた当時の様子をあらわすものとして正しいものを次のア～エより1つ選び、記号で答えてください。

- ア. 「富国強兵」のスローガンのもと、20歳以上の男子に兵役が義務づけられた。
イ. 「五箇条の御誓文」と呼ばれる民衆に対しての基本方針が出され、キリスト教が禁止された。
ウ. 「殖産興業」のスローガンのもと、全国各地にたくさんの寺院が建設された。
エ. 「お雇い外国人」と呼ばれた人々が中心となって、自由民権運動が始まった。

〔問9〕下線部⑧の「保健機能食品」には、通称「トクホ」と呼ばれる特定保健用食品があり、特定のマークが表示されています。このマークとして正しいものを次のア～エより1つ選び、記号で教えてください。

ア.

イ.

ウ.

エ.



〔問10〕下線部⑨に関連して、地方自治のしくみについての説明として正しくないものを、次のア～エより1つ選び、記号で教えてください。

ア. 地方自治はその特色から「民主主義の学校」ともいわれる。

イ. 都道府県知事や市町村長は、住民による直接選挙で選ばれる。

ウ. 条例とは、憲法や法律の範囲内で地方議会が定めるきまりのことである。

エ. 地方議会は一院制で、司法権を持ち、予算の議決や条例の制定を行う。

〔問11〕次の文章をA～Fの文章のどことどこの間に入れると年代の古い順になりますか。解答らんに合わせて教えてください。

「甘藷先生」とも呼ばれた⑩青木昆陽の研究によって、さつまいもの栽培が関東地方に広まりました。さつまいもは、深刻なききんの時の食料として私たちを救ってくれました。

〔問12〕問11にある下線部⑩の「青木昆陽」が甘藷の栽培をすすめた人物として正しいものを次のア～エより1つ選び、記号で教えてください。

ア. 水野忠邦

イ. 徳川吉宗

ウ. 田沼意次

エ. 徳川慶喜