

平成20年度  
入学試験問題

社 会

2月4日 午後

受験番号	氏 名

中村中学校

① 次のA～Eの文章は日本の川についてのべたものです。読んであとの問に答えてください。

- A この川は日本で最も流域面積の広い川です。越後山脈の丹後山付近を水源とし、太平洋に注ぎます。以前は東京湾に注いでいましたが、江戸時代に流路が付け替えられました。首都圏の用水源として大変重要な川となっています。
- B この川は①日本で最も大きな湖を水源とし、日本で8か所ある②高等裁判所の1つがある都市で海に注ぎます。この都市は卸売業が盛んで、西日本最大の都市となっています。
- C この川は以前は日本で第2位の長さでしたが、中流部で蛇行した流路を直線化する工事が進められたため、現在は第3位となっています。川の周囲の平野には以前は泥炭地が多くありましたが、土地改良工事が進められ、現在は水田となっている場所が増えています。
- D この川は関東山地の甲武信岳付近を水源とし、日本海に注ぐ日本で最も長い川です。下流の平野は低平で水はけが悪いため、以前は水害が多発していましたが、分水路の建設などの対策が取られたことにより、現在は減少しています。
- E この川は四国山地を水源とし、紀伊水道に注いでいて、四国三郎とも呼ばれています。灌漑用水や工業用水などに多く利用されています。③この川は四国で最も長い川で、大規模なダムが建設されていないため、日本最後の清流とされています。

〔問1〕 Aの川の流域にない国立公園として正しいものを次のア～エより1つ選び、記号で答えてください。

ア. 日光国立公園

イ. 秩父多摩甲斐国立公園

ウ. 尾瀬国立公園

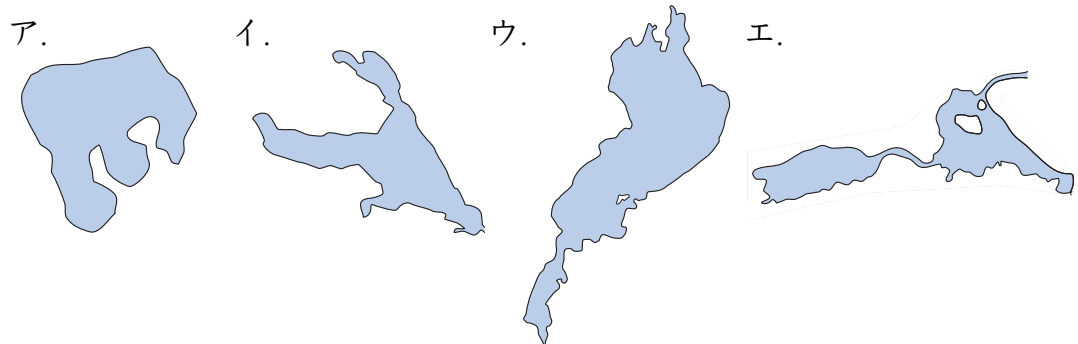
エ. 上信越高原国立公園

〔問2〕 次の地図のaで盛んに行われている工業として正しいものを次のア～エより1つ選び、記号で答えてください。



ア. 繊維工業      イ. 機械工業      ウ. 自動車工業      エ. 石油化学工業

〔問3〕 下線部①の湖の形を示したものとして正しいものを次のア～エより1つ選び、記号で答えてください。なお縮尺は一定ではありません。



〔問4〕 下線部②の「高等裁判所」の裁判官を決める方法について説明した、次の文章の空らん□にあてはまることばを答えてください。

『最高裁判所が作成する名簿めいぼに基づいて、内閣ないかくが□する。』

〔問5〕 また、下線部②に関連して、日本の裁判が三審制さんしんせいを取っている理由を答えてください。

〔問6〕 Cの川の上流部にある盆地<sup>ぼんち</sup>についての説明として正しいものを、次のア～エより1つ選び、記号で答えてください。

ア. 降水量<sup>こうすいりょう</sup>が少ないため水不足になりやすく、その対策としてため池が多くつくられている。

イ. 火山灰<sup>かざんばい</sup>を含んだ土地<sup>ふく</sup>のため水田に不向きで、畑作が盛んになっている。

強い風から畑や家を守るための防風林<sup>ぼうふうりん</sup>が多く見られる。

ウ. 冬の寒さは大変<sup>きび</sup>厳しくなっているが、夏に比較<sup>ひかくてき</sup>的高温<sup>いなさく</sup>になるため、稲作が盛んになっている。

エ. 盆地<sup>ぼんち</sup>の周辺<sup>せんじょうち</sup>にある扇状地<sup>せんじょうち</sup>では、以前は養蚕<sup>ようさん</sup>が行われていたが、現在ではももやぶどうなどの果物栽培<sup>さいばい</sup>が盛んに行われている。

〔問7〕 また、Cの川の中流部の様子<sup>ようす</sup>を示した写真として正しいものを、説明文を参考に次のア～エより1つ選び、記号で答えてください。

ア.



イ.



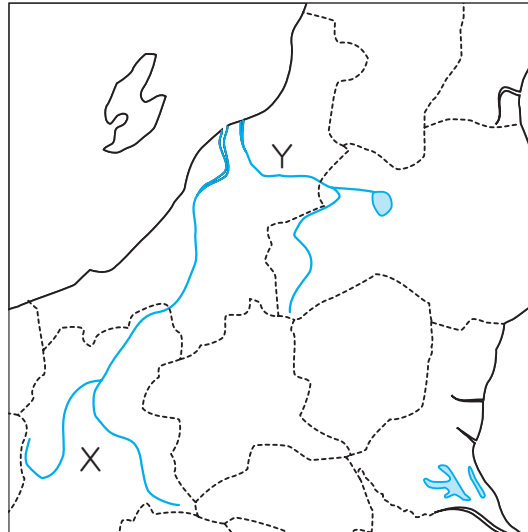
ウ.



エ.



〔問8〕 Dの川が流れる地図中のX県の農業産出額を示したものとして正しいものを表のア～エより1つ選び、記号で答えてください。



	米	野菜	果実	ちくさん 畜産
ア	545	724	498	327
イ	1,787	341	82	512
ウ	247	448	84	2,309
エ	169	176	105	224

(単位億円) (2004年、『データで見る県勢 第16版』より)

〔問9〕 また、上の地図のY川の流域で、1964年ころから発生した公害病<sup>こうがいびょう</sup>として正しいものを次のア～エより1つ選び、記号で答えてください。

- ア. イタイイタイ病                      イ. 四日市ぜんそく<sup>よっかいち</sup>  
 ウ. 水俣病<sup>みなまたびょう</sup>                      エ. 第二水俣病

〔問10〕 Eの川を説明した文章のうち、下線部③は別の川の説明となっています。下線部③にあたる川の名前を答えてください。

〔問11〕 Eの川の流域の町に住んでいる中村さくらさんは、ある日お父さんに書類を届けるように頼まれました。地形図と説明文を参考にして、中村さくらさんが書類を届けた先として正しいものを次のア～エより1つ選び、記号で答えてください。

さくらさんはまず脇町潜水橋を北に渡り、2つめの交差点を東に曲がり、図書館に向かいました。図書館で本を返した後、さらに東に進み川に着きました。今度は川沿いの道を北に約250mほど進んだ後、病院のある交差点を西に曲がり、高等学校の西隣にある目的地に着きました。



(実際の地形図を拡大してあります)

- ア. 警察署      イ. 裁判所      ウ. 税務署      エ. 老人ホーム

〔問12〕 A～Eの川のうち、河口にある都市が政令指定都市となっているものを選び、その数を答えてください。なお政令指定都市がない場合は、0と答えてください。

② 次の各文章は、貿易に関するものです。読んであとの問に答えてください。

① <sup>たいらのきよもり</sup>平清盛は、<sup>そう</sup>宋との貿易を積極的に<sup>こうべ</sup>行い、現在の神戸港の一部である  ②   
を<sup>しゅうちく</sup>修築して貿易に力を入れました。日本からは<sup>すいぎん</sup>金や<sup>いおう</sup>水銀、<sup>とうけん</sup>硫黄、<sup>しっき</sup>刀剣、漆器などが輸出され、<sup>そうせん</sup>宋からは<sup>とうじき</sup>宋銭をはじめ、<sup>しよせき</sup>陶磁器や書籍などが輸入されました。

〔問1〕下線部①の「平清盛」は、<sup>せとないかい</sup>瀬戸内海を通る船の安全を願ひ、ある寺社を保護しました。では、その寺社の写真として正しいものを次のア～エより1つ選び、記号で答えてください。

ア.



イ.



ウ.



エ.



〔問2〕空らん  ②  にあてはまることばを答えてください。

げん ほろ  
元を減ぼして成立した明は、日本に倭寇の取り締まりを求めてきました。これをきっかけにあしかがよしみつ  
あしかがよしみつ  
明と国交を開き、朝貢形式の貿易を始めました。この貿易では、倭寇と区別するためにかんごう  
かんごう  
勘合という札を使用しました。日本からは、銅や硫黄、刀剣などが輸出され、明からはみんせん  
みんせん  
明銭、陶磁器、③、絹織物などが輸入されました。

〔問3〕明との貿易についての説明として正しいものを次のア～エより1つ選び、記号で答えてください。

ア. この貿易では「和同開珎」などの明銭が大量に輸入され、日本で広く流通した。

イ. この貿易の形態は中継貿易だったため、琉球を経由して取引される  
ちゅうけい  
りゅうきゅう  
ことが多かった。

ウ. 貿易にかかる費用は日本がすべて負担したため、利益は少なかった。

エ. 堺や博多はこの貿易の港として栄え、のち、堺や博多の商人は貿易による富を蓄えるようになった。  
さかい はかた  
とみ たくわ



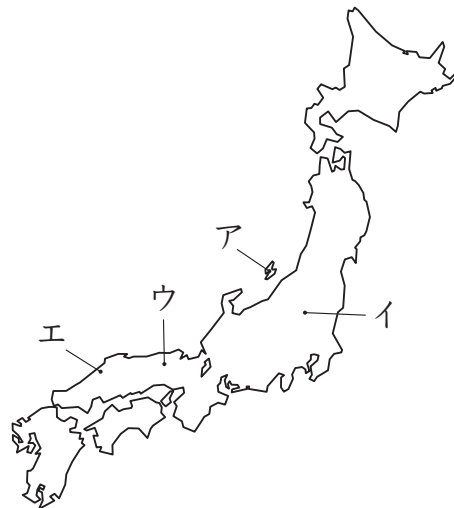
1549年にはフランシスコ＝ザビエルが鹿児島<sup>かごしま</sup>に来日し、④日本にキリスト教を伝えました。その後、ポルトガル人やスペイン人が相次いでやってきました。彼らのことを南蛮人<sup>なんばんじん</sup>と言います。そして、こうした南蛮人と貿易を行う大名や商人なども現れました。この貿易では鉄砲<sup>てっぽう</sup>や火薬<sup>かやく</sup>、③などが輸入され、日本からは⑤飛躍的に生産が増大した銀<sup>ひやく</sup>が主に輸出されました。

〔問4〕下線部④に関連して、キリスト教が日本に伝わってからのその後の説明として正しいものを、次のア～エより1つ選び、記号で答えてください。

- ア. 天草四郎<sup>あまくさしろう</sup>が中心となって起こした島原の乱<sup>しまばららん</sup>によって、キリスト教の信仰<sup>しんこう</sup>が認められた。
- イ. キリシタン大名の大友宗麟<sup>おおともそうりん</sup>らが、4人の少年使節をローマ法王<sup>ほうおう</sup>のもとに派遣した。
- ウ. 宣教師<sup>せんきょうし</sup>は学校や教会、孤児院<sup>こじいん</sup>、病院などを各地につくり熱心に布教したが、信徒はほとんど増えなかった。
- エ. 織田信長<sup>おだのぶなが</sup>はキリスト教勢力を排除し、延暦寺<sup>えんりやくじ</sup>などの仏教勢力を保護する政策をとった。

〔問5〕下線部⑤の理由には、2007年6月に世界遺産<sup>いさん</sup>に登録されたある銀山からの産出量が増えたことが大きいとされています。では、ある銀山とその場所の組み合わせとして正しいものを次のア～エより1つ選び、記号で答えてください。

- ア. 佐渡銀山      イ. 佐渡銀山
- ウ. 石見銀山      エ. 石見銀山



豊臣秀吉は京都や堺などの商人に東南アジアとの貿易を奨励しました。その方針を受け継いだ徳川家康は、大名や商人に対して朱印状をあたえ、海外との貿易を認めました。この貿易がさかんになると、東南アジアなどに移住する日本人が増え、日本人が住む⑥日本町がつくられるようになりました。この貿易では③が大量に輸入され、銀が輸出されました。

〔問6〕下線部⑥のシャムの「日本町」で活躍し、国王に信頼され高位について人物として正しいものを次のア～エより1つ選び、記号で答えてください。

- ア. 山田長政      イ. 井原西鶴      ウ. 間宮林蔵      エ. 三浦按針

キリスト教を禁止するため、徳川家光は海外との貿易を制限し、キリスト教の布教と関係のないオランダ・中国と、長崎の出島で貿易を行うこととしました。この貿易では、③や絹織物、薬品、砂糖などが輸入されたのに対して、銀や銅、海産物が輸出されました。

〔問7〕江戸時代の海外との関係についての説明として正しいものを次のア～エより1つ選び、記号で答えてください。

- ア. 北海道には対馬藩がおかれ、アイヌと交易することが認められた。  
イ. 朝鮮からは、朝鮮国王の交代ごとに朝鮮通信使が派遣された。  
ウ. 薩摩藩は琉球を侵略し、琉球との密貿易によって利益を上げた。  
エ. 鎖国中、ヨーロッパなどの情報が入ることはなかった。

1858年に日米修好通商条約が結ばれました。その後、ロシアやオランダ、イギリス、フランスともほぼ同じ内容の条約を結び、貿易が始まりました。毛織物や綿織物、武器などが輸入されたのに対して、や茶が輸出されました。

〔問8〕幕末期の貿易についての説明として正しいものを次のア～エより1つ選び、記号で答えてください。

- ア. 貿易を行う際の取り決めを決めるため、日米和親条約を結んだ。
- イ. 貿易のほとんどが横浜で行われ、横浜での取引額の80%以上をイギリスがしめた。
- ウ. 江戸の商人は、関税自主権の回復を求めて打ちこわしを起こした。
- エ. 茶の生産が間に合わず、国内では品不足となったため、茶の値段は下がった。

日清戦争前後から、日本では軽工業を中心に第1次産業革命が起こりました。綿糸やなどの生産は大幅に増え、綿糸はおもに中国や朝鮮に、はおもにアメリカに輸出されました。

また日清戦争後、鉄鋼生産にも力を入れ、官営の八幡製鉄所が日清戦争で得た賠償金を使って建設されました。そこでつくられた鉄鋼は軍備の増強や鉄道の建設に使われ、日露戦争後には重工業を中心に第2次産業革命が起こりました。

〔問9〕それぞれの文章にある空らんにあてはまることばを答えてください。

第1次世界大戦が始まると、日本の貿易に大きな変化が起こりました。⑦日本はかつてない好景気を迎え、造船業、製鉄業、化学工業などが発達し、海運業でも大きな利益を得ました。

〔問10〕下線部⑦について、日本がかつてない好景気を迎え、各産業が発達することになった理由を答えてください。

朝鮮戦争が始まると、日本はアメリカから武器や車両の修理、<sup>だんやく</sup>弾薬の製造などの注文を受け、<sup>とくじゆ</sup>特需景気を迎えました。その後も好景気を維持して、<sup>こうとけいざいせい</sup>⑧高度経済成長が続きました。1968年にはアメリカに次いでGNPが世界第2位となり、経済大国と呼ばれるようになりました。

しかし、外国との間には⑨<sup>まきつ</sup>貿易摩擦が生じ、アメリカなどからその解消を求められました。

〔問11〕下線部⑧の「高度経済成長」がもたらした結果と考えられることとして正しくないものを次のア～エより1つ選び、記号で答えてください。

- ア. <sup>しょくりようじきゆうりつ</sup>食糧自給率が上昇した。
- イ. <sup>おせん</sup>大気汚染などの公害問題が<sup>しんこくか</sup>深刻化した。
- ウ. 大都市周辺には<sup>かくかぞく</sup>核家族が増加した。
- エ. 交通事故が急増した。

〔問12〕下線部⑨の「貿易摩擦」の解消のために行われた政策として正しくないものを次のア～エより1つ選び、記号で答えてください。

- ア. 牛肉とオレンジの輸入を自由化して、<sup>しじょう</sup>市場を開放した。
- イ. 日本は輸出の<sup>じしゅきせい</sup>自主規制を行った。
- ウ. 日本の自動車会社の工場をアメリカにつくった。
- エ. 日本は関税を引き上げて、<sup>ほご</sup>保護貿易を行った。