

平成20年度
入学試験問題

社 会

特待生
後期

受験番号	氏 名

中村中学校


1 次の文章を読んで、あとの問に答えてください。

橋は私たちの生活に深い関わりがあります。橋は昔から人々の切なる願いにより、
① 多くの時間とお金をかけて建設されています。 実際に橋によって大きく生活が変
化した地域として、中国・四国地方を見てみましょう。

中国地方と四国地方は② 瀬戸内海をはさんで向かい合っていて、③ 中国山地と四
国山地をさかいとして人々のくらしや産業に違いがあります。

1988年、④ 岡山県児島市(現玉野市)と香川県坂出市を結ぶルートの開通によっ
て日本の4つの大きな島がすべてトンネルや橋で結ばれました。⑤ このような事業
は国の仕事を行うために作られた会社によって行われてきました。

⑥ 兵庫県神戸市から徳島県鳴門市までを結
ぶルートは、1998年に開通しています。こ
のルートには世界最長の吊り橋である、明石海
峡大橋〈写真1〉がかけられています。この
ルートが開通したおかげで、徳島県をはじめ、



〈写真1〉

⑦ 四国産の農水産物は京阪神の市場で大きな
割合を占めるようになりました。また、明石海

峡大橋には水道管が併設されていて、これまで⑧ 水不足に悩まされていた地域にも
水が安定して供給されるようになりました。

「しまなみ海道」と呼ばれるルートは、広島県尾道市と愛媛県今治市を結んでいま
す。このルートの特徴は、自動車専用道路はもちろんのこと、自転車・歩行者専用



〈写真2〉

道路が併設されていることです。沿線には観
光地も多いのですが、通勤・通学・通院など
沿線住民の生活のための道路となっています。
このルートには10本の橋がかけられていま
す。中でも来島海峡大橋〈写真2〉は世界初
の3連のつり橋で、この区間の通行料金は日
本一高いことで知られています。

〔問1〕下線部①について、道路や港湾・空港や上下水道の整備など、政府や地方自治体が行う経済活動を表すことばを答えてください。

〔問2〕下線部②の「瀬戸内海」では養殖がさかんです。右の写真について、この現象の発生原因と養殖への影響について説明してください。

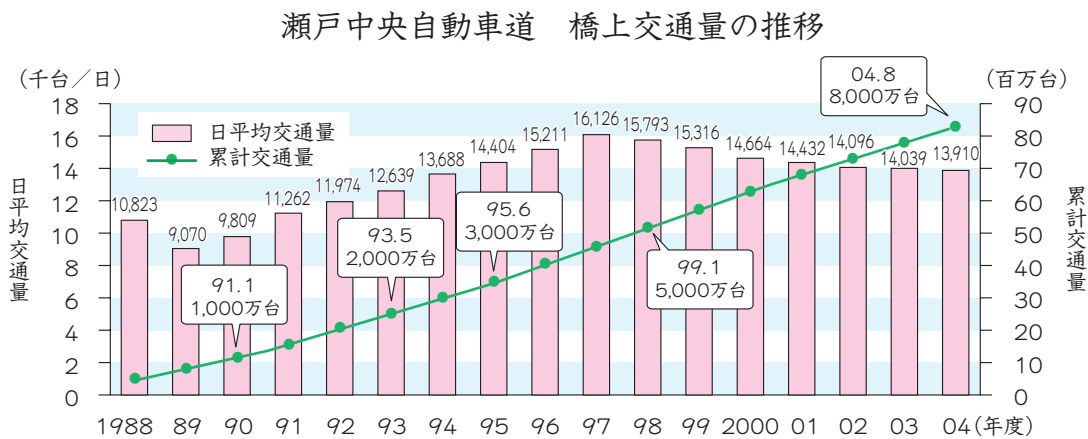
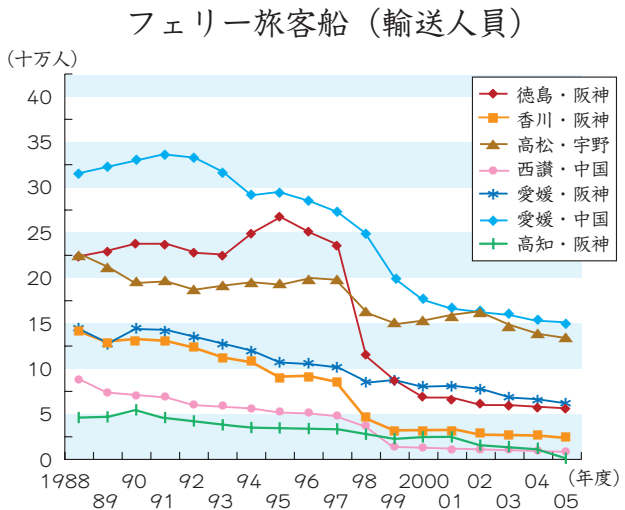
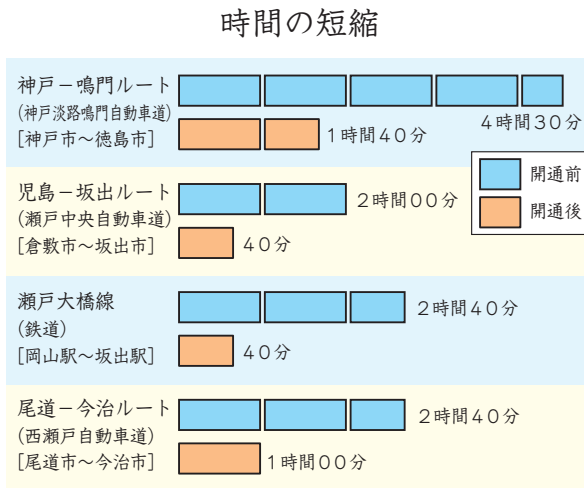
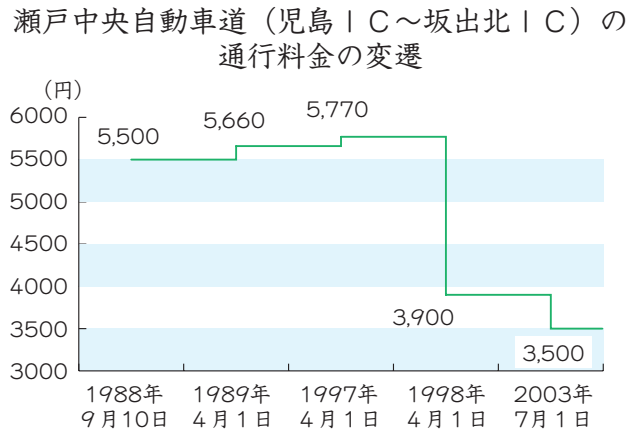
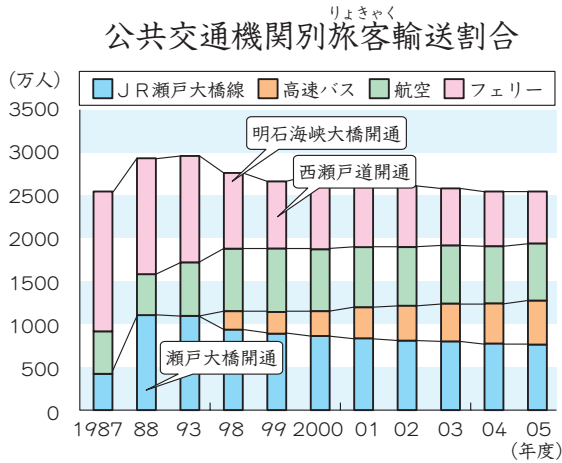


〔問3〕下線部③について、中国・四国地方の人々の暮らし・産業についての説明として正しくないものを次のア～エより1つ選び、記号で答えてください。

- ア. 山陰地方では過疎化が進んでいて、農業では米に加えて、なし・らっきょう・スイカも生産している。漁業もさかんで、境港は日本海側では水揚げ量が最も多い漁港となっている。
- イ. 山陽地方は中国地方で人口の多い大都市が集中していて、新幹線や高速道路も整備されている。以前は塩の生産がさかんであったが、現在はみかんやぶどう・ももの栽培もさかんである。
- ウ. 四国地方の北側は本州とつながったことで、人や物の移動が非常に便利になった。タオルやうちわの生産で有名な都市があり、最近では讃岐うどんが全国的に広まっている。
- エ. 中国・四国地方の伝統工芸品としては、土佐和紙や熊野筆、備前焼や萩焼などがある。このような製品は大量生産が行われているため、安い値段で売られている。

(問題は次のページに続きます。)

〔問4〕下線部④について、次の5つのグラフや表を参考に、^{れんらく}連絡橋の開通による人々の生活の変化や与える影響^{あた}として正しくないものを、次のア～エより1つ選び、記号で教えてください。



(いずれも『本州四国連絡高速道路株式会社資料』より)

- ア. 自動車で移動する場合には、連絡橋を利用することで、所要時間を約1/3～1/4に減らすことができるようになった。
- イ. 連絡橋の完成後、人の移動が容易よういになったため、公共の交通機関を利用して本州と四国を行き来する人が増加している。
- ウ. 明石海峡大橋が開通したことにより、本州へ移動するのにフェリーを利用する人は、各航路とも減少した。
- エ. 瀬戸大橋の通行料金は数回にわたって値下ねさげされているにもかかわらず、橋の通行量は減少している。

〔問5〕下線部⑤に関連して、次の文章の空らん□A□～□D□にあてはまることばの組み合わせとして正しいものを次のア～エより1つ選び、記号で答えてください。

政府はいきすぎた□A□を防ぎ、産業を保護するため、政府の許可なしに営業ができないといった□B□^{もう}を設けてきました。このような政策は、戦後の日本の経済発展^{はってん}に一定の役割^{やくわり}を果たしたといえます。しかし、かえって自由な□A□や産業発展^{さまた}の妨げになることもあり、不景気^{ふけいき}も長引^{ながび}いているため、政府は□B□をゆるめるようになりました。また、本州四国連絡橋公団など、国の仕事を行うために作られた会社である□C□は廃止されたり、国鉄をJRにしたような□D□がすすめられたりしています。

- ア. A－競争 B－規制 C－特殊法人^{とくしゅほうじん} D－民営化^{みんえいか}
イ. A－取引 B－条例^{じょうれい} C－特殊法人 D－合理化^{ごうりか}
ウ. A－取引 B－規制 C－第三セクター D－合理化
エ. A－競争 B－条例 C－第三セクター D－民営化

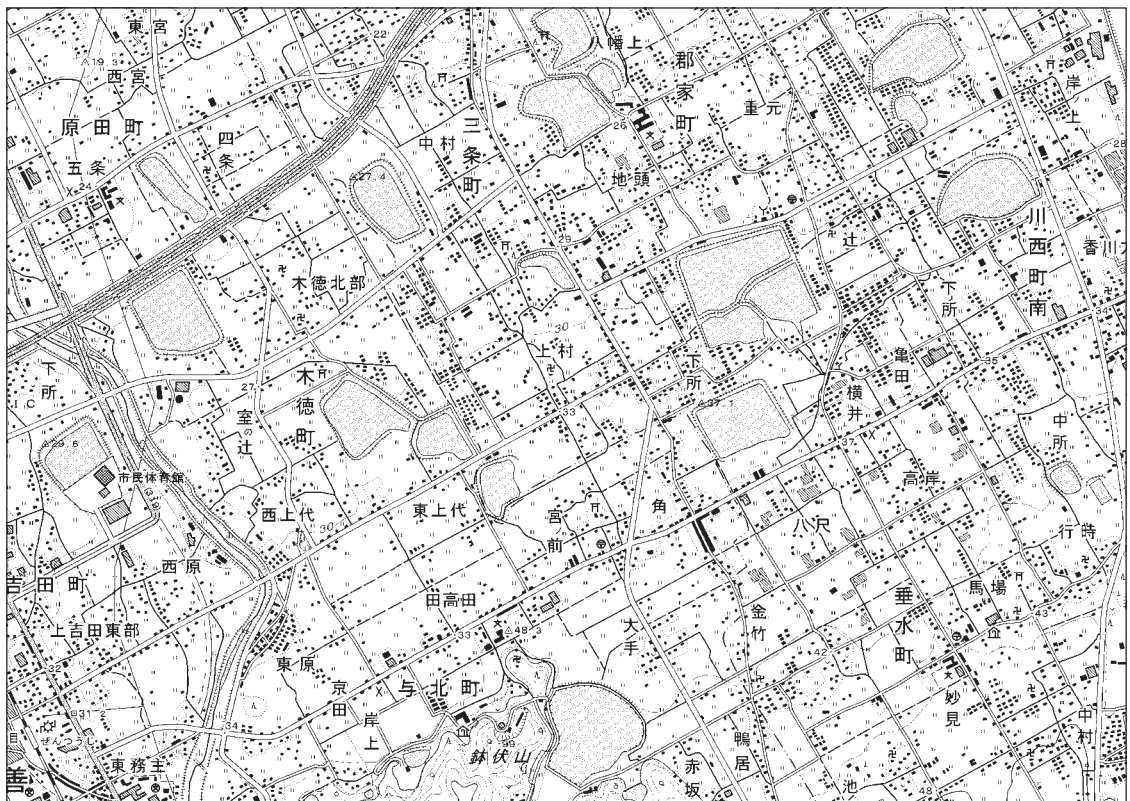
〔問6〕下線部⑥について、このルートは四国と本州の間にある大きな島を通過します。タマネギの栽培が有名で、1995年の大地震^{じしん}で大きな被害^{ひがい}を受けたこの島の名前を答えてください。

〔問7〕下線部⑦について、以下の表は四国地方の人口・面積や、農産物の収穫量や水産物の水揚げ量などを表しています。これらのうち、高知県にあたるものを次のア～エより1つ選び、記号で答えてください。

県	人口 (人)	面積 (km ²)	米 (千ト)	ピーマン (ト)	みかん (ト)	マダイ (ト)	工業出荷額 (億円)
ア	809,974	4,145	69	1,320	15,100	117	16,562
イ	796,211	7,105	66	16,000	8,990	6,225	5,570
ウ	1,012,261	1,876	77	364	18,800	1,333	21,546
エ	1,467,824	5,677	79	1,960	170,200	37,972	33,184

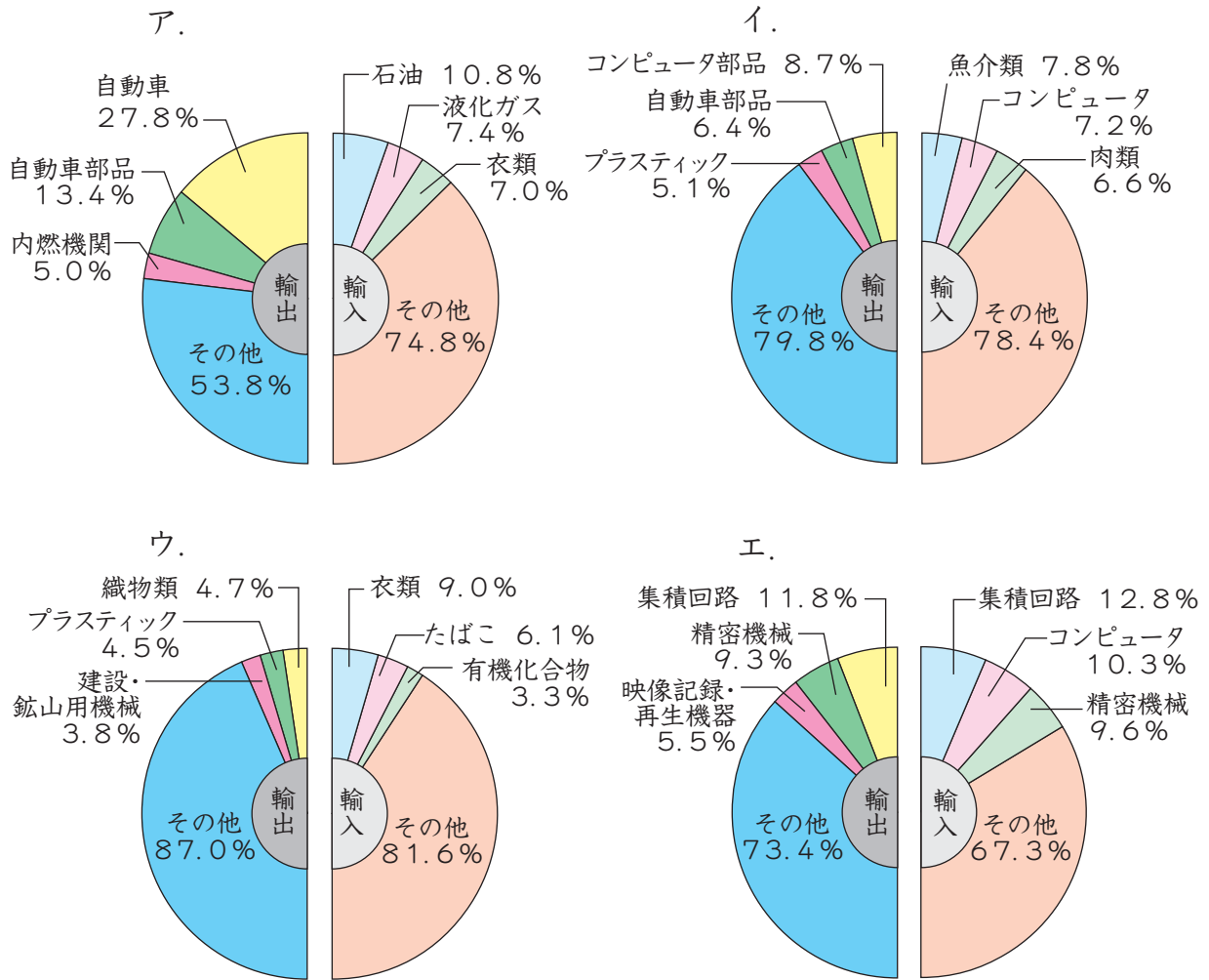
(2004、2005年『データで見る県勢 第16版』より)

〔問8〕下線部⑧について、次の地形図に示された地域は、ある施設がたくさん見られ、これにより降水量が少ない地域であることがわかります。この施設の名前を答えてください。



〔問9〕 問題文に登場する県に関連して、以下の問に答えてください。

(1) 兵庫県神戸市は日本国内有数の貿易港です。これに関連して、次の円グラフは日本の主な貿易港の輸出・輸入の内訳を表しています。このうち、神戸港を表しているグラフとして正しいものを次のア～エより1つ選び、記号で答えてください。



(2005年、『日本国勢図会 2007/08』より)

(2) 徳島県では2007年4月の統一地方選挙で新しい知事が誕生しています。

これに関連して、地方自治体に関連する選挙制度についての説明として正しいものを、次のア～エより1つ選び、記号で答えてください。

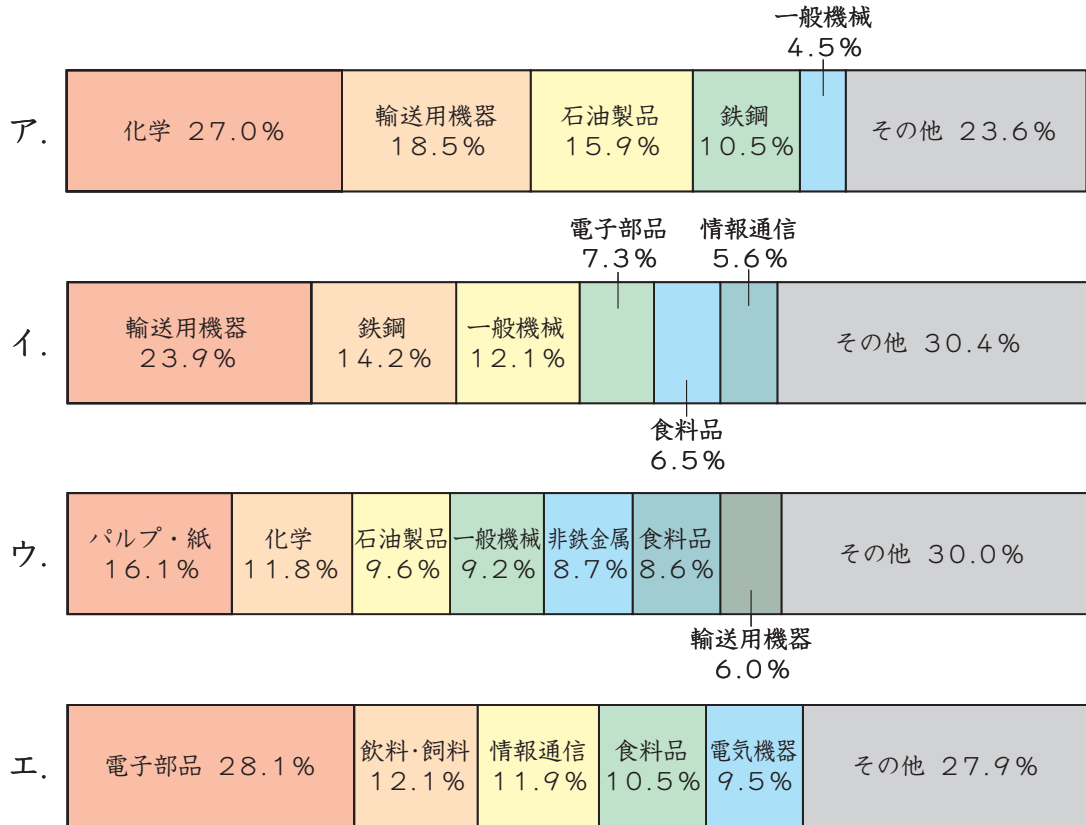
ア. 首長と地方議会の議員の被選挙権は、いずれも30歳以上のすべての男女に与えられている。

イ. 選挙権のある人が、投票日当日に投票できない場合は、投票日をはさんだ前後1週間で投票することができる。

ウ. 有権者の4分の1以上の署名を集めると、首長や議員の解職や議会の解散を請求することができる。

エ. 地方自治体の重要な課題について、住民にその是非を問うために住民投票が行われることがある。

(3) 広島県の工業別出荷割合を示しているグラフとして正しいものを次のア～エから1つ選び、記号で教えてください。



(2004年、『データでみる県勢 第16版』より)

〔問10〕 本州と四国をつなぐ3つのルートはいずれも高速道路となっています。有料道路を利用する際に、料金所で停止することなく通過できるシステムが広がっています。このシステムをアルファベット3文字で何といいますか。正しいものを次のア～エより1つ選び、記号で教えてください。

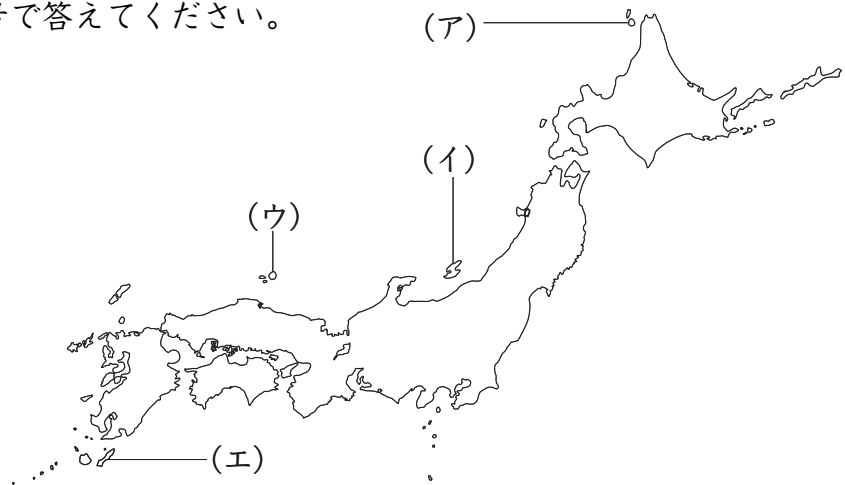
- ア. ETC イ. GNP ウ. ODA エ. NPO

② 次の文章を読んで、あとの問に答えてください。

かつて16世紀末、戦国時代の日本人は大量の①鉄砲を持っていました。しかし、②17世紀の徳川幕府の時代以後、その使用や技術を用いることをみずからやめてしまいました。③高い技術をもった文明国が、高度な鉄砲という武器を自発的に棄てて、④刀剣という古くさい武器に逆戻りする道を選んだのです。そして国家として成功しました。いまこの日本の歴史の英知に学べば、⑤人類も核の使用をやめることもできるはずだと思います。

〈ノエル・ペリン著、川勝平太訳『鉄砲をすてた日本人』、中公文庫より抜粋、要約〉

〔問1〕下線部①の「鉄砲」が日本に伝えられた場所として正しいものを次のア～エより1つ選び、記号で答えてください。



〔問2〕また、戦国時代に堺を支配して、それまでの弓矢や刀を主とした戦い方を下線部①の「鉄砲」を大量に使う戦い方に変えた戦国大名は誰ですか、答えてください。

〔問3〕下線部②に関連して、1637年には鉄砲などを持ったキリスト教徒たちが九州で反乱を起こし、幕府はこれを鎮圧しました。この事件を何といいますか、答えてください。

〔問4〕また、下線部②の例として、江戸幕府5代将軍徳川綱吉は全国的な鉄砲取
 締りを行うため、「諸国鉄砲改め」を出しました。では、この将軍の時の政策
 として正しいものを次のア～エより1つ選び、記号で答えてください。

- ア. 生類憐みの令 イ. 上米の制
 ウ. 株仲間の解散 エ. 囲米の制

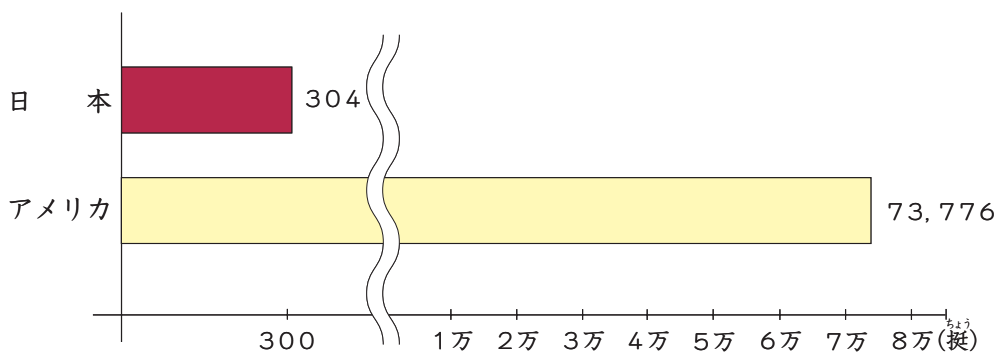
〔問5〕下線部③の1つといわれるアメリカ合衆国では銃犯罪が深刻な問題に
 なっています。資料Aと資料Bに関する次の文章の空らん ・
 にあてはまる文をそれぞれ答えてください。

〈資料A〉

規律ある民兵は、自由な国家の安全にとって必要であるから、人民が武器
 を保蔵し、また携帯する権利は、これを侵してはならない。
 〈1791年制定のアメリカ合衆国憲法修正第2条より。この憲法は現在も拘束力を持っています〉

〈資料B〉

(推定される人口10万人あたりの銃の保有数)



*出典 (『朝日新聞』2007年4月18日付、2006年度『警察白書』、
 『世界の国一覽表2006年版』より)

資料Aでは ので、資料Bのように と考えられる。

〔問6〕 次の史料は下線部④に関連する法令で、1588年に出されたものです。この法令名を何といいますか、教えてください。

諸国の百姓、刀・脇差・弓・やり、鉄砲その他の武器などを持つことは、かたく禁止する。

〔問7〕 また、問6の法令が出された目的として正しいものを次のア～エより1つ選び、記号で教えてください。

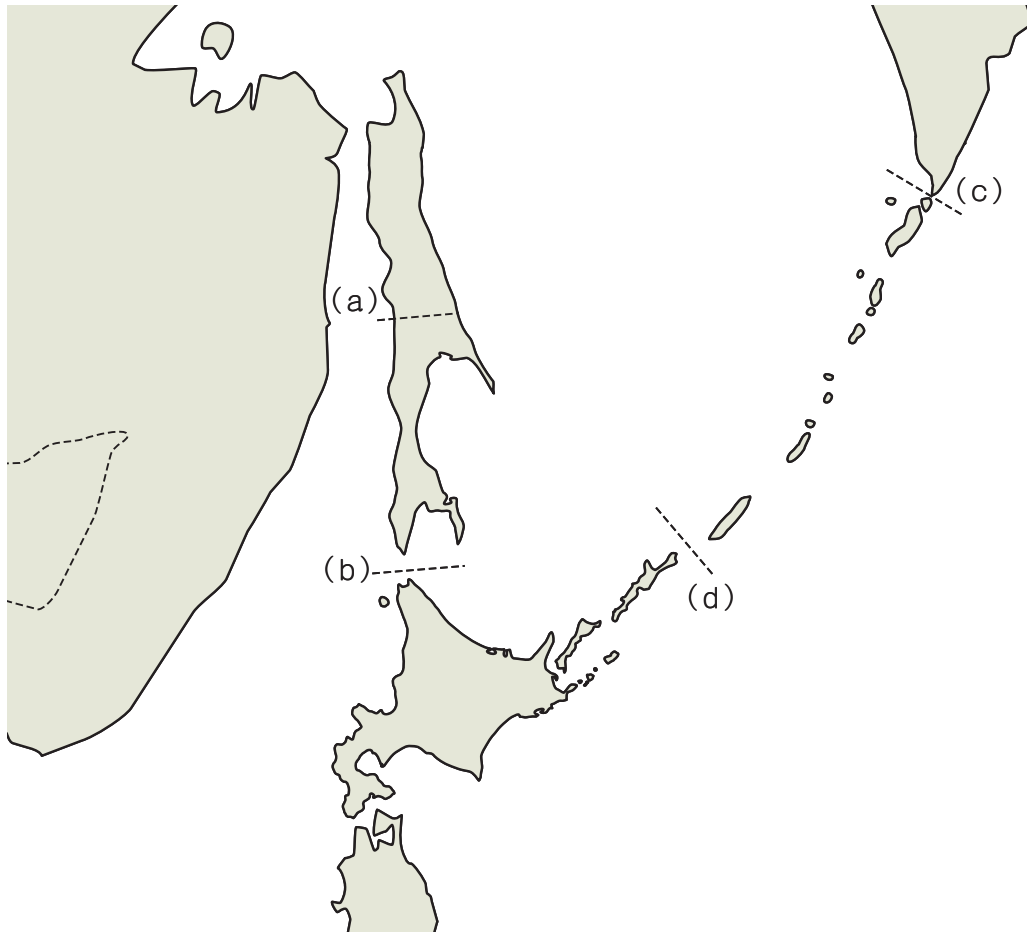
- ア. 城の修理、建築を行なうため。
- イ. 輸出品としての刀剣を確保するため。
- ウ. 物価高騰をおさえるため。
- エ. 農民の一揆を防止するため。

〔問8〕 また、次の史料は下線部④に関連する法令で、1876年に出された廃刀令です。この法令に示されているように、徳川幕府の時代の武士階級の生活は大きく変化していきました。この変化の例として直接関係のないことがらを次のア～エより1つ選び、記号で教えてください。

これ以後は大礼服の着用という大きな儀式の際、および軍人・警察・官吏等が制服を着用して勤務する際以外の帯刀（刀を携帯すること）は禁止する。違反した者がいた場合は、その者の刀を取り上げる。

- ア. 徴兵令
- イ. 四民平等
- ウ. 太陽暦
- エ. 断髪

〔問9〕また、問8の法令が出された時点での日本とロシアとの^{こっきょうせん}国境線を示す組み合わせとして正しいものを次のア～エより1つ選び、記号で教えてください。



- | | |
|--------------|--------------|
| ア. (a) と (c) | イ. (a) と (d) |
| ウ. (b) と (c) | エ. (b) と (d) |

〔問10〕 次の史料は下線部⑤に関連したもので、日本国憲法前文の一部です。空らん ・ にあてはまることばの組み合わせとして正しいものを次のア～エより1つ選び、記号で答えてください。

日本国民は、恒久の を念願し、人間相互の関係を支配する崇高な理想を深く自覚するのであって、 を愛する諸国民の公正と信義に信頼して、われらの と生存を保持しようと決意した。

- ア. a－自由 b－平等 イ. a－自由 b－安全
ウ. a－平和 b－平等 エ. a－平和 b－安全

〔問11〕 また、問10の史料の精神を実現した日本国憲法の条文は第何条ですか、答えてください。

〔問12〕 また、下線部⑤に関連して、1955年に第1回原水爆禁止世界大会が広島で開かれました。この出来事に最も関係が深いことがらを次のア～エより1つ選び、記号で答えてください。

- ア. 環境基本法成立 イ. 第五福竜丸事件
ウ. 沖縄返還 エ. 自衛隊のイラク派遣開始